

Rhan o'r
gyfres:



 Rhifo
Rhagorol






Dewisiwch un o'r opsiynau canlynol er mwyn gweld yr heriau. Agorwch banel 'bookmarks' yn eich rhaglen 'PDF' er mwyn cael mynediad i ran arbennig o'r ddogfen. Yn 'Adobe', dewisiwch yr ail eicon.



CLIC 1
CLIC 2
CLIC 3
CLIC 4
CLIC 5
CLIC 6
CLIC 7
CLIC 8
CLIC 9
CLIC 10

CLIC 11
CLIC 12
CLIC 13
CLIC 14
CLIC 15
CLIC 16
CLIC 17
CLIC 18
CLIC 19
CLIC Platinwm





Enw:

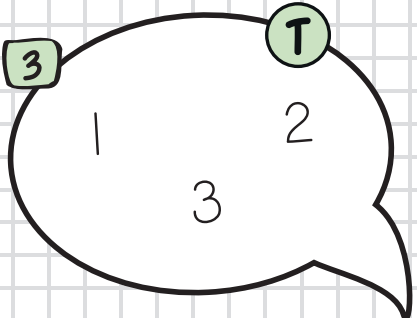
Dosbarth:


Dyddiad:




1 "1, 2, 3, 4, 5, 6, 7"

2 "1, 2, 3, 4, 5, 6, 7, 8, 9, 10"

3 

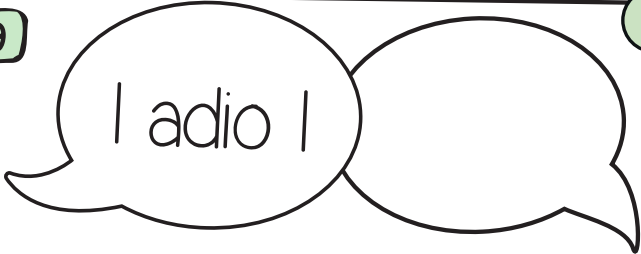
4 

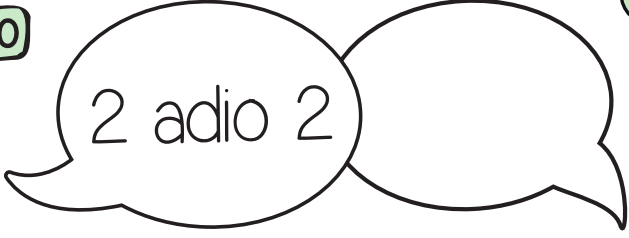
5  Sawl?

6 Gwn fod gen i 10 bys

7 Gallaf ddweud beth ydy dwbl 1 a dwbl 2

8 Gallaf ddweud beth ydy hanner 4 a hanner 2

9 

10 



Nodyn: Nid oes copïau ychwanegol o'r her ar gael gan y bydd pob sgôr yn deillio o asesiad athro

CLIC 2

WS:

Enw:

Dosbarth:

Dyddiad:



1 "1, 2, 3...
...15, 16, 17" T

2 3 9
2 T

3 Sawl? T

4 Gallaf ddweud pwy
enillodd / ddaeth yn gyntaf
/ yn ail / yn olaf T

5 Gosodwch y rhifau mewn trefn
4 7 2 T

6 "10, 20, 30,
40, 50" T

7 Gwn fod i 5 bys
ar bob llaw a 10
honoy'n nhw i gyd T

8 Dwbl 3 yw T

9 I 'yn fwy
na' 4 yw T

10 I 'yn llai
na' 6 yw T



Nodyn: Nid oes copiâu ychwanegol o'r her ar gael gan y bydd pob sgôr yn deillio o asesiad athro

CLIC 3

WS:

Enw:

Dosbarth:

Dyddiad:



1 "1, 2, 3, 4, 5 20"

2 11
13 15

3 Gosodwch y rhifau mewn trefn

4 8 2

4 Sawl?

8 buses

5 Dwbl 3 yw

6 Cyfri yn ôl
"20, 19, 18
.....3, 2, 1, Sero"

7 "2, 4, 6, 8, 10"

8 "10, 20, 30,
40, 50, 60, 70
80, 90, 100"

9

3 basketballs + 2 basketballs =

10

5 cars

Tynnwch 4, sawl un sydd ar ôl?



Nodyn: Nid oes copïau ychwanegol o'r her ar gael gan y bydd pob sgôr yn deillio o asesiad athro

CLIC 4

WS:

Enw:

Dosbarth:

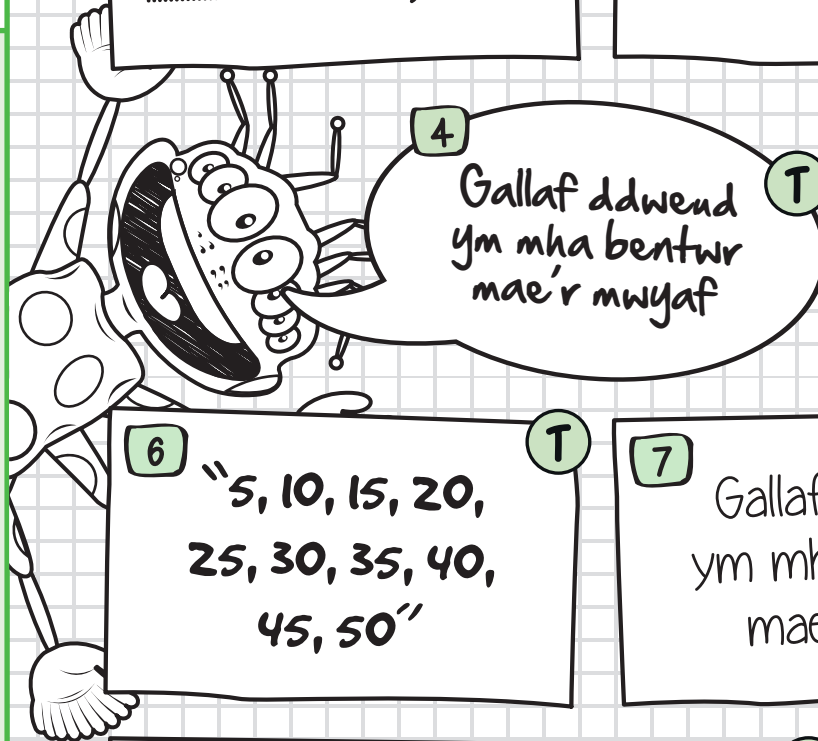
Dyddiad:



1 "50, 51, 52,
.....58, 59" T

2 **13**
15 17 T

3 20 T
30 40



5 "5, 10, 15, 20, 25" T

6 "5, 10, 15, 20,
25, 30, 35, 40,
45, 50" T

7 Gallaf ddweud
ym mha bentwr
mae'r lleiaf T

8 Gallaf ddweud bod
dau bentwr o'r union
faint/swm T

9 $4 + \quad = 10$ T

10 $4 + 3 =$ T



Nodyn: Nid oes copïau ychwanegol o'r her ar gael gan y bydd pob sgôr yn deillio o asesiad athro

CLIC 5

WS:

Enw:

Dosbarth:

Dyddiad:



1 T

17

20 18

2 T

Ysgrifennwch rif sy'n 'fwy na' 12 ond yn 'llai na' 20

3 T

20 30

40 50

4 T

Wrth weld rhif 2 ddigid, gall blentyn adnabod y rhif ar gyfer degau. E.e. gyda 36, wrth bwyntio at y 3 mae'n dwend '30' yn hytrach na '3'

5 T

Dyblu lluosrif 2 ddigid o 10 hyd at 40

6 T

4 + = 10

7 T

Gall blentyn ddweud rhifau Ffrindiau Ffeithiol

8 T

20 30 40

100 200

9 T

8 - 5 =

10 T

Gallaf gyfri hyd at 10 gwrthrych mewn pentwr



Enw:

Dosbarth:

Dyddiad:



1

$$\begin{array}{c} 46 \\ \diagdown \quad \diagup \end{array}$$

2 Rhowch mewn trefn

13 11 17 14

3

14, , 18, 20

4

160, 170, , 190, 200

5 Cylchwch yr odrifau

14 15 21 24

6

35, 36, 37...

, , ,

7

5 + 2 =

0 1 2 3 4 5 6 7 8 9 10

8

6 - 4 =

0 1 2 3 4 5 6 7 8 9 10


9 Cyfrwch yn ôl

49, 48, 47, , ,

10 Cyfrwch yn ôl

83, 82, 81,

, ,





Enw:

Dosbarth:

Dyddiad:



1

37

2 Rhowch mewn trefn

15 12 18 10

3

6, 8, , 12, 14

4

90, 100, , 120, 130

5

Cylchwrch yr eilrifau

11 16 20 23

6

23, 24, 25...

, , ,

7

6 + 3 =

0 1 2 3 4 5 6 7 8 9 10

8

7 - 2 =

0 1 2 3 4 5 6 7 8 9 10

9


Cyfrwch yn ôl

37, 36, 35, , ,

10

Cyfrwch yn ôl

54, 53, 52, , ,





Enw:

Dosbarth:

Dyddiad:



1

58

— —

2 Rhowch mewn trefn

17 15 19 14

3

8, 10, 12, , 16

4

120, 130, 140, , 160

5 Cylchwch yr odrifau

6 9 17 26

6

56, 57, 58...

, , ,

7

$2 + 4 =$

0 1 2 3 4 5 6 7 8 9 10

8

$8 - 5 =$


0 1 2 3 4 5 6 7 8 9 10

9 Cyfrwch yn ôl

28, 27, 26, , ,

10 Cyfrwch yn ôl

33, 32, 31, , ,





Enw:

Dosbarth:

Dyddiad:



1

24

2 Rhowch mewn trefn

11 8 15 13

3

6, 8, 10, , 14

4

0, 25, 50, , 100

5

Cylchwch yr eilrifau

16 20 27 33

6

81, 82, 83...

, , ,

7

$5 + 4 =$

0 1 2 3 4 5 6 7 8 9 10

8

$5 - 3 =$

0 1 2 3 4 5 6 7 8 9 10

9


Cyfrwch yn ôl

56, 55, 54, , ,

10

Cyfrwch yn ôl

44, 43, 42, , ,





Enw:

Dosbarth:

Dyddiad:



1

62

2 Rhowch mewn trefn

12 18 15 16

3

10, 12, 14, , 18

4

200, 210, , 230, 240

5 Cylchwch yr odrifau

20 23 32 41

6

44, 45, 46...

, , ,

7

$2 + 6 =$

0 1 2 3 4 5 6 7 8 9 10

8

$9 - 2 =$


0 1 2 3 4 5 6 7 8 9 10

9 Cyfrwch yn ôl

77, 76, 75, , ,

10 Cyfrwch yn ôl

93, 92, 91, , ,





Enw:

Dosbarth:

Dyddiad:



1

75

2 Rhowch mewn trefn

14 8 15 9

3

10, , 14, 16

4

0, 25, , 75, 100

5

Cylchwch yr eilrifau

26 35 42 47

6

27, 28, 29...

, , ,

7

$1 + 5 =$

0 1 2 3 4 5 6 7 8 9 10

8

$6 - 3 =$

0 1 2 3 4 5 6 7 8 9 10

9


Cyfrwch yn ôl

87, 86, 85, , ,

10

Cyfrwch yn ôl

73, 72, 71, , ,





Enw:

Dosbarth:

Dyddiad:



1

93

— —

2 Rhowch mewn trefn

15 12 16 11

3

12, 14, 16, , 20

4

130, , 150, 160, 170

5 Cylchwch yr odrifau

18 24 37 49

6

61, 62, 63...

, , ,

7

3 + 4 =

0 1 2 3 4 5 6 7 8 9 10

8

4 - 2 =


0 1 2 3 4 5 6 7 8 9 10

9 Cyfrwch yn ôl

69, 68, 67, , ,

10 Cyfrwch yn ôl

65, 64, 63, , ,





Enw:

Dosbarth:

Dyddiad:



1

34

2 Rhowch mewn trefn

12 20 17 15

3

10, 12, , 16,

4 y rhif nesaf yw...

0, 25, 50, 75,

5 Cylchwch yr odrifau

19 27 32 38

6 "93, 94, 95..."

, , ,

7

$8 + 2 =$

0 1 2 3 4 5 6 7 8 9 10

8

$8 - 6 =$

0 1 2 3 4 5 6 7 8 9 10


9 Cyfrwch yn ôl

59, 58, 57, , ,

10 Cyfrwch yn ôl

24, 23, 21,

, ,





Enw:

Dosbarth:

Dyddiad:



1

67

2 Rhowch mewn trefn

16 9 13 19

3

8, , 12, 14,
, 18

4 y rhif nesaf yw...

80, 90, 100, 110,

5 Cylchwch yr eilrifau

7 22 40 53

6 "16, 17, 18..."

, , ,

7

$3 + 6 =$

0 1 2 3 4 5 6 7 8 9 10

8

$7 - 4 =$


0 1 2 3 4 5 6 7 8 9 10

9 Cyfrwch yn ôl

46, 45, 44, , ,

10 Cyfrwch yn ôl

84, 83, 82,
, ,





Enw:

Dosbarth:

Dyddiad:



1

98

— —

2 Rhowch mewn trefn

14 12 19 13

3

14, 16, ,

4

180, , 200, 210

5 Cylchwch yr odrifau

14 19 23 34

6

76, 77, 78...

, , ,

7

5 + 4 =

0 1 2 3 4 5 6 7 8 9 10

8

9 - 7 =


0 1 2 3 4 5 6 7 8 9 10

9 Cyfrwch yn ôl

98, 97, 96, , ,

10 Cyfrwch yn ôl

53, 52, 51, , ,





Enw:

Dosbarth:

Dyddiad:



1

300, 400, ,
 , 700

2

Ysgrifennwch ffrindiau
ffeithiol:

$$8 + 6 = 14$$

3

Dwbl 34
ydy

4

Dwbl
70 ydy

5

Hanner
70 ydy

6

$$16 - 1 =$$

7

$$16 + 3 =$$

8


$$16 + 7 =$$

9

$$16 - 3 =$$

10

$$16 - 7 =$$





Enw:

Dosbarth:

Dyddiad:



1
200, , 400,
500, , 700

2 Ysgrifennwch ffrindiau
ffeithiol:
 $7 + 5 = 12$
.....
.....

3
Dwbl 42
ydy


4
Dwbl
60 ydy

5
Hanner
30 ydy

6 $18 - 1 =$

7 $14 + 2 =$

8 **$14 + 8 =$**



9 **$14 - 2 =$**

10 $14 - 8 =$



Enw:

Dosbarth:

Dyddiad:



1

500, 600, ,
800,

2

Ysgrifennwch ffrindiau
ffeithiol:

$9 + 6 = 15$
.....
.....

3

Dwbl 23
ydy

4

Dwbl
50 ydy

5

Hanner
50 ydy

6

$13 - 1 =$

7

$12 + 3 =$

8


$17 + 5 =$

9

$12 - 3 =$

10

$17 - 5 =$





Enw:

Dosbarth:

Dyddiad:



CLIC 7

WS: 4

1

100, 200, ,
400, ,600

2

Ysgrifennwch ffrindiau
ffeithiol:

$$5 + 8 = 13$$

3

Dwbl 14
ydy

4

Dwbl
80 ydy

5

Hanner
120 ydy

6

$$19 - 1 =$$

7

$$11 + 2 =$$

8


$$18 + 6 =$$

9

$$11 - 2 =$$

10

$$18 - 6 =$$





Enw:

Dosbarth:

Dyddiad:



CLIC 7

WS: 5

1

400, 500, ,
700, , 900

2

Ysgrifennwch ffrindiau
ffeithiol:

$$7 - 3 = 4$$

3

Dwbl 3l
ydy

4

Dwbl
90 ydy

5

Hanner
160 ydy

6

$$15 - 1 =$$

7

$$15 + 3 =$$

8


$$15 + 8 =$$

9

$$15 - 3 =$$

10

$$15 - 8 =$$



FY SGÔR DDIWETHAF?!

A LWYDDAIS I GURO CLIC?!

10



Enw:

Dosbarth:

Dyddiad:



CLIC 7

WS: 6

1

300, , 500,

2

Ysgrifennwch ffrindiau
ffeithiol:

$$8 - 2 = 6$$

3

Dwbl 43
ydy

4

Dwbl
70 ydy

5

Hanner
90 ydy

6

$$12 - 1 =$$

7

$$13 + 3 =$$

8


$$19 + 5 =$$

9

$$13 - 3 =$$

10

$$19 - 5 =$$





Enw:

Dosbarth:

Dyddiad:



CLIC 7

WS: 7

1

200, 300, ,
500, , 700

2

Ysgrifennwch ffrindiau
ffeithiol:

$$8 + 9 = 17$$

3

Dwbl 24
ydy

4

Dwbl
60 ydy

5

Hanner
140 ydy

6

$$11 - 1 =$$

7

$$16 + 2 =$$

8


$$18 + 8 =$$

9

$$16 - 2 =$$

10

$$18 - 8 =$$



FY SGÔR DDIWETHAF?!

A LWYDDAIS I GURO CLIC?!

10



Enw:

Dosbarth:

Dyddiad:



CLIC 7

WS: 8

1

500, ,700,
, 900

2

Ysgrifennwch ffrindiau
ffeithiol:

$$7 + 4 = 11$$

3

Dwbl 32
ydy

4

Dwbl
50 ydy

5

Hanner
180 ydy

6

$$19 - 1 =$$

7

$$15 + 2 =$$

8


$$15 + 6 =$$

9

$$15 - 2 =$$

10

$$15 - 6 =$$





Enw:

Dosbarth:

Dyddiad:



CLIC 7

WS: 9

1

100, ,
400, 500

2

Ysgrifennwch ffrindiau
ffeithiol:

$15 - 7 = 8$
.....
.....

3

Dwbl 44
ydy

4

Dwbl
80 ydy

5

Hanner
100 ydy

6

$13 - 1 =$

7

$9 + 3 =$

8


$17 + 8 =$

9

$9 - 3 =$

10

$17 - 8 =$



FY SGÔR DDIWETHAF?!

A LWYDDAIS I GURO CLIC?!

10



Enw:

Dosbarth:

Dyddiad:



CLIC 7

WS: 10

1

600,
, 900, 1000

2

Ysgrifennwch ffrindiau
ffeithiol:

$$5 + 9 = 14$$

3

Dwbl 22
ydy

4

Dwbl
90 ydy

5

Hanner
90 ydy

6

$$16 - 1 =$$

7

$$15 + 3 =$$

8


$$19 + 7 =$$

9

$$15 - 3 =$$

10

$$19 - 7 =$$



FY SGÔR DDIWETHAF?!

A LWYDDAIS I GURO CLIC?!

10



Enw:

Dosbarth:

Dyddiad:



1 50, 100, 150,

2 Ysgrifennwch ffrindiau
ffeithiol:
 $8 + 6 = 14$

3 Dwbl 34
ydy

4 Dwbl
70 ydy

5 $60 + 10 =$

6 $73 + 10 =$

7 $30 + 4 =$

8 $80 - 10 =$

9 $76 - 10 =$

10 $40 - 20 =$





Enw:

Dosbarth:

Dyddiad:



1

200, 250, 300,

2

Ysgrifennwch ffrindiau
ffeithiol:

$$7 + 5 = 12$$

3

Dwbl 42
ydy

4

Dwbl
60 ydy

5

$$30 + 10 =$$

6

$$65 + 10 =$$

7

$$70 + 6 =$$

8

$$50 - 10 =$$

9

$$82 - 10 =$$

10

$$60 - 40 =$$





Enw:

Dosbarth:

Dyddiad:



1

500, 1000, 1500,

2

Ysgrifennwch ffrindiau
ffeithiol:

$$9 + 6 = 15$$

3

Dwbl 23
ydy

4

Dwbl
50 ydy

5

$$70 + 10 =$$

6

$$36 + 10 =$$

7

$$22 + 10 =$$

8

$$70 - 10 =$$

9

$$91 - 10 =$$

10

$$30 - 20 =$$





Enw:

Dosbarth:

Dyddiad:



1

2000, 2500, 3000,

2

Ysgrifennwch ffrindiau
ffeithiol:

$$5 + 8 = 13$$

3

Dwbl 14
ydy

4

Dwbl
80 ydy

5

$$40 + 10 =$$

6

$$48 + 10 =$$

7

$$76 + 10 =$$

8

$$40 - 10 =$$

9

$$78 - 10 =$$

10

$$70 - 50 =$$





Enw:

Dosbarth:

Dyddiad:



1 5000, 10000,
15000,
,

2 Ysgrifennwch ffrindiau
ffeithiol:
 $7 - 3 = 4$

3 Dwbl 3l
ydy

4 Dwbl
90 ydy

5 $50 + 10 =$

6 $27 + 10 =$

7 $90 + 6 =$

8 $30 - 10 =$

9 $25 - 10 =$

10 $70 - 20 =$





Enw:

Dosbarth:

Dyddiad:



1

30000, 35000, 40000,

,

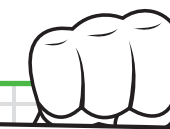
2

Ysgrifennwch ffrindiau
ffeithiol:

$$8 - 2 = 6$$

.....

.....



3

Dwbl 43
ydy

4

Dwbl
70 ydy

5

$$70 + 10 =$$

6

$$84 + 10 =$$

7

$$70 + 2 =$$

8

$$60 - 10 =$$

9

$$62 - 10 =$$

10

$$90 - 20 =$$





Enw:

Dosbarth:

Dyddiad:



1 $0, \frac{1}{2}, 1,$

2 Ysgrifennwch ffrindiau
ffeithiol:
 $8 + 9 = 17$

3 Dwbl 24
ydy

4 Dwbl
60 ydy

5 $80 + 10 =$

6 $10 + 76 =$

7 $60 + 4 =$

8 $80 - 10 =$

9 $56 - 10 =$

10 $50 - 30 =$





Enw:

Dosbarth:

Dyddiad:



1 $3\frac{1}{2}, 4, 4\frac{1}{2},$

2 Ysgrifennwch ffrindiau
ffeithiol:
 $7 + 4 = 11$

3 Dwbl 32
ydy

4 Dwbl
50 ydy

5 $90 + 10 =$


6 $62 + 10 =$

7 $50 + 7 =$

8 $50 - 10 =$

9 $71 - 10 =$

10 $60 - 30 =$





Enw:

Dosbarth:

Dyddiad:



1

450, 500,
, 650

2

Ysgrifennwch ffrindiau
ffeithiol:

$$15 - 7 = 8$$

3

Dwbl 44
ydy

4

Dwbl
80 ydy

5

$$60 + 10 =$$

6

$$39 + 10 =$$

7

$$30 + 6 =$$

8

$$70 - 10 =$$

9

$$45 - 10 =$$

10

$$90 - 60 =$$





Enw:

Dosbarth:

Dyddiad:



1

6000, ,7000

7500,

2

Ysgrifennwch ffrindiau
ffeithiol:

$5 + 9 = 14$

.....

.....

3

Dwbl 22
ydy

4

Dwbl
90 ydy

5

$30 + 10 =$

6

$43 + 10 =$

7

$90 + 3 =$

8

$40 - 10 =$

9

$63 - 10 =$

10

$70 - 30 =$





Enw:

Dosbarth:

Dyddiad:



CLIC 9

WS: 1


1 Rhowch mewn trefn
39 93 54 69

2 $30 + 40 =$

3 Dwbl 49 ydy

4 Hanner 300 ydy

5 Ysgrifennwch ffrindiau
ffeithiol:
 $30 + 40 = 70$



6 $32 + 4 =$

7 $30 + 60 =$

8 $80 - 6 =$

9 $48 - 5 =$

10 $43 - 7 =$



Enw:

Dosbarth:

Dyddiad:



CLIC 9

WS: 2


1 Rhowch mewn trefn
43 72 68 45

2 $50 + 30 =$

3 Dwbl 27 ydy

4 Hanner 48 ydy

5 Ysgrifennwch ffrindiau
ffeithiol:
 $50 + 80 = 130$



6 $26 + 6 =$

7 $10 + 30 =$

8 $50 - 3 =$

9 $37 - 4 =$

10 $32 - 5 =$



Enw:

Dosbarth:

Dyddiad:



CLIC 9

WS: 3


1 Rhowch mewn trefn
58 25 67 24

2 $60 + 50 =$

3 Dwbl 36 ydy

4 Hanner 500 ydy

5 Ysgrifennwch ffrindiau
ffeithiol:
 $90 - 20 = 70$



6 $18 + 4 =$

7 $40 + 40 =$

8 $30 - 7 =$

9 $56 - 3 =$

10 $51 - 6 =$



Enw:

Dosbarth:

Dyddiad:



CLIC 9

WS: 4


1 Rhowch mewn trefn
64 44 62 81

2 $20 + 60 =$

3 Dwbl 18 ydy

4 Hanner 64 ydy

5 Ysgrifennwch ffrindiau
ffeithiol:
 $70 - 50 = 20$



6 $49 + 3 =$

7 $70 + 20 =$

8 $40 - 5 =$

9 $29 - 6 =$

10 $78 - 8 =$



Enw:

Dosbarth:

Dyddiad:



CLIC 9

WS: 5


1 Rhowch mewn trefn
22 71 28 65

2 $70 + 50 =$

3 Dwbl 47 ydy

4 Hanner 900 ydy

5 Ysgrifennwch ffrindiau
ffeithiol:
 $80 + 60 = 140$



6 $68 + 8 =$

7 $50 + 30 =$

8 $90 - 4 =$

9 $65 - 4 =$

10 $25 - 9 =$



Enw:

Dosbarth:

Dyddiad:



CLIC 9

WS: 6


1 Rhowch mewn trefn
76 58 75 88

2 $80 + 70 =$

3 Dwbl 83 ydy

4 Hanner 26 ydy

5 Ysgrifennwch ffrindiau
ffeithiol:
 $60 + 70 = 130$
.....
.....



6 $53 + 8 =$

7 $20 + 30 =$

8 $70 - 2 =$

9 $78 - 6 =$

10 $62 - 7 =$



Enw:

Dosbarth:

Dyddiad:



CLIC 9

WS: 7


1 Rhowch mewn trefn
34 43 53 42

2 $90 + 40 =$

3 Dwbl 68 ydy

4 Hanner 700 ydy

5 Ysgrifennwch ffrindiau
ffeithiol:
 $120 - 40 = 80$



6 $79 + 4 =$

7 $10 + 60 =$

8 $80 - 4 =$

9 $86 - 5 =$

10 $54 - 8 =$



Enw:

Dosbarth:

Dyddiad:



CLIC 9

WS: 8


1 Rhowch mewn trefn
51 29 50 35

2 $80 + 90 =$

3 Dwbl 76 ydy

4 Hanner 88 ydy

5 Ysgrifennwch ffrindiau
ffeithiol:
 $110 - 30 = 80$



6 $26 + 7 =$

7 $30 + 30 =$

8 $50 - 7 =$

9 $98 - 7 =$

10 $71 - 4 =$



Enw:

Dosbarth:

Dyddiad:



CLIC 9

WS: 9


1 Rhowch mewn trefn
74 72 67 27

2 $60 + 70 =$

3 Dwbl 96 ydy

4 Hanner 300 ydy

5 Ysgrifennwch ffrindiau
ffeithiol:
 $90 + 60 = 150$



6 $35 + 6 =$

7 $30 + 40 =$

8 $30 - 6 =$

9 $57 - 4 =$

10 $45 - 8 =$



Enw:

Dosbarth:

Dyddiad:



CLIC 9

WS: 10


1 Rhowch mewn trefn
65 82 68 86

2 $90 + 90 =$

3 Dwbl 56 ydy

4 Hanner 62 ydy

5 Ysgrifennwch ffrindiau
ffeithiol:
 $140 - 50 = 90$



6 $85 + 4 =$

7 $20 + 40 =$

8 $90 - 3 =$

9 $49 - 8 =$

10 $63 - 9 =$



Enw:

Dosbarth:

Dyddiad:



1 Rhowch mewn trefn
39 93 54 69

2 $30 + 40 =$

3 Dwbl 49 ydy

4 $43 \times 10 =$

5 $43 + = 50$

6 $343 - 7 =$

7 $67 + 8 =$

8 $70 + 80 =$

9 $86 - 80 =$

10 $3 \times 9 =$



Enw:

Dosbarth:

Dyddiad:



CLIC 10

WS: 2

1 Rhowch mewn trefn
43 72 68 45

2 $50 + 30 =$

3 Dwbl 27 ydy

4 $26 \times 10 =$

5 $65 + = 70$

6 $257 - 6 =$

7 $45 + 4 =$

8 $90 + 30 =$

9 $75 - 70 =$

10 $4 \times 7 =$



Enw:

Dosbarth:

Dyddiad:



CLIC 10

WS: 3

1 Rhowch mewn trefn
58 25 67 24

2 $60 + 50 =$

3 Dwbl 36 ydy

4 $38 \times 10 =$

5 $36 + = 40$

6 $175 - 8 =$

7 $23 + 8 =$

8 $40 + 70 =$

9 $39 - 30 =$

10 $5 \times 4 =$



Enw:

Dosbarth:

Dyddiad:



CLIC 10

WS: 4

1 Rhowch mewn trefn
64 44 62 81

2 $20 + 60 =$

3 Dwbl 18 ydy

4 $54 \times 10 =$

5 $48 + = 50$

6 $461 - 4 =$

7 $93 + 4 =$

8 $50 + 90 =$

9 $48 - 40 =$

10 $2 \times 6 =$



Enw:

Dosbarth:

Dyddiad:

1 Rhowch mewn trefn
22 71 28 65

2 $70 + 50 =$

3 Dwbl 47 ydy

4 $67 \times 10 =$

5 $27 + \quad = 30$

6 $662 - 5 =$

7 $57 + 5 =$

8 $40 + 80 =$

9 $33 - 30 =$

10 $4 \times 8 =$





Enw:

Dosbarth:

Dyddiad:

1 Rhowch mewn trefn
76 58 75 88

2 $80 + 70 =$

3 Dwbl 83 ydy

4 $75 \times 10 =$

5 $84 + \quad = 90$

6 $534 - 9 =$

7 $84 + 9 =$

8 $60 + 80 =$

9 $56 - 50 =$

10 $2 \times 7 =$





Enw:

Dosbarth:

Dyddiad:



CLIC 10

WS: 7

1 Rhowch mewn trefn
34 43 53 42

2 $90 + 40 =$

3 Dwbl 68 ydy

4 $46 \times 10 =$

5 $76 + \quad = 80$

6 $193 - 6 =$

7 $35 + 9 =$

8 $40 + 70 =$

9 $89 - 80 =$

10 $5 \times 6 =$



Enw:

Dosbarth:

Dyddiad:



CLIC 10

WS: 8

1 Rhowch mewn trefn
51 29 50 35

2 $80 + 90 =$

3 Dwbl 76 ydy

4 $29 \times 10 =$

5 $62 + \quad = 70$

6 $745 - 8 =$

7 $43 + 3 =$

8 $90 + 40 =$

9 $67 - 60 =$

10 $2 \times 9 =$



Enw:

Dosbarth:

Dyddiad:

1 Rhowch mewn trefn
74 72 67 27

2 $60 + 70 =$

3 Dwbl 96 ydy

4 $97 \times 10 =$

5 $39 + = 40$

6 $371 - 3 =$

7 $64 + 8 =$

8 $60 + 70 =$

9 $77 - 70 =$

10 $6 \times 7 =$





Enw:

Dosbarth:

Dyddiad:

1 Rhowch mewn trefn
74 72 67 27

2 $60 + 70 =$

3 Dwbl 96 ydy

4 $84 \times 10 =$

5 $34 + \quad = 40$

6 $822 - 7 =$

7 $78 + 8 =$

8 $80 + 80 =$

9 $49 - 40 =$

10 $4 \times 6 =$





Enw:


Dosbarth:

Dyddiad:



CLIC 11

WS: 1



1

12, , 20, ,

2

Dwbl 400 ydy

3

Dwbl 900 ydy

4

$30 \times 50 =$

5

456
/ / /
|
/ / /

6

$300 + 400 =$

7

Mae Llion yn
cuddio fu â l lluosrif
mwyaf 4 heb fynd
hebio 50

8

$47 + = 100$


9

$86 - 30 =$

10

10

$46 + 70 =$





Enw:


Dosbarth:

Dyddiad:



CLIC 11

WS: 2



1 16, 20, , ,
32,

2 Dwbl 300 ydy

3 Dwbl 700 ydy

4 $20 \times 40 =$


5 284
/ | \

6 $500 + 800 =$

7 Mae Llion yn
cuddio fu â l lluosrif
mwyaf 5 heb fynd
hebio 24

8 $62 + = 100$

9 $45 - 20 =$



10 $82 + 30 =$



Enw:


Dosbarth:

Dyddiad:



CLIC 11

WS: 3



1

8, ,16, 20,
28,

2

Dwbl 200 ydy

3

Dwbl 600 ydy

4

$70 \times 30 =$

5

379
/ / /

6

$600 + 700 =$

7

Mae Llion yn
cuddio fu â lluosrif
mwyaf 10 heb fynd
hebio 67

8

$36 + = 100$


9

$94 - 40 =$

10

10

$78 + 60 =$



FY SGÔR DDIWETHAF?!

A LWYDDAIS I GURO CLIC?!

10



Enw:


Dosbarth:

Dyddiad:



CLIC 11

WS: 4



1

20, 24, ,
32,

2

Dwbl 100 ydy

3

Dwbl 800 ydy

4

$80 \times 20 =$

5

863




6

$400 + 900 =$

7

Mae Llion yn
cuddio fu â l lluosrif
mwyaf 5 heb fynd
hebio 36



8

$100 - = 71$

9

$52 - 10 =$

10

$86 + 90 =$



Enw:


Dosbarth:

Dyddiad:



CLIC 11

WS: 5



1

16, , 24,
, 32

2

Dwbl 400 ydy

3

Dwbl 500 ydy

4

$90 \times 30 =$

5

742

6

$800 + 300 =$

7

Mae Llion yn
cuddio fu â l lluosrif
mwyaf 10 heb fynd
hebio 54

8

$100 - = 54$


9

$92 - 80 =$

10

10

$58 + 50 =$



FY SGÔR DDIWETHAF?!

A LWYDDAIS I GURO CLIC?!

10



Enw:


Dosbarth:

Dyddiad:



CLIC 11

WS: 6



1

4, 8, , ,
, 24

2

Dwbl 300 ydy

3

Dwbl 600 ydy

4

$40 \times 30 =$

5

138
/ /
|

6

$700 + 500 =$

7

Mae Llion yn
cuddio fu â l lluosrif
mwyaf 5 heb fynd
hebio 41

8


$83 + = 100$

9

$74 - 30 =$

10

$71 + 70 =$



FY SGÔR DDIWETHAF?!

A LWYDDAIS I GURO CLIC?!

10



Enw:


Dosbarth:

Dyddiad:



CLIC 11

WS: 7



1

,12, 16, ,
,28

2

Dwbl 200 ydy

3

Dwbl 900 ydy

4

$50 \times 40 =$

5

925
/ / /
|
/ / /

6

$800 + 800 =$

7

Mae Llion yn
cuddio fu â lluosrif
mwyaf 10 heb fynd
hebio 78

8

$100 - = 43$


9

$98 - 60 =$

10

10

$67 + 90 =$



FY SGÔR DDIWETHAF?!

A LWYDDAIS I GURO CLIC?!

10



Enw:


Dosbarth:

Dyddiad:



CLIC 11

WS: 8



1

12, 16, , ,
28, 32,

2

Dwbl 100 ydy

3

Dwbl 500 ydy

4

$60 \times 20 =$

5

591
/ / /
|
/ / /

6

$900 + 600 =$

7

Mae Llion yn
cuddio fu â l lluosrif
mwyaf 5 heb fynd
hebio 28

8


51 + = 100

9

$31 - 30 =$

10

$16 + 96 =$



FY SGÔR DDIWETHAF?!

A LWYDDAIS I GURO CLIC?!

10



Enw:


Dosbarth:

Dyddiad:



CLIC 11

WS: 9



1

8, 12, , , 24
28, , 36

2

Dwbl 400 ydy

3

Dwbl 800 ydy

4

$70 \times 50 =$

5

617
/ / /
|
/

6

$500 + 300 =$

7

Mae Llion yn
cuddio fu â l lluosrif
mwyaf 10 heb fynd
hebio 82

8

$100 - = 100$


9

$54 - 40 =$

10

10

$23 + 80 =$



FY SGÔR DDIWETHAF?!

A LWYDDAIS I GURO CLIC?!

10



Enw:

Dosbarth:

Dyddiad:



CLIC 11


WS: 10

1

20, ,28, ,
36,

2

Dwbl 300 ydy



3

Dwbl 900 ydy

4

$80 \times 30 =$

5

483
/ / /
| | |

6

$900 + 900 =$

7

Mae Llion yn
cuddio fu â l lluosrif
mwyaf 5 heb fynd
hebio 48

8


$77 + = 100$

9

$91 - 40 =$

10

$83 + 80 =$



FY SGÔR DDIWETHAF?!

A LWYDDAIS I GURO CLIC?!

10



Enw:

Dosbarth:

Dyddiad:



CLIC 12

WS: 1

1

8, , 24, ,

2

Rhowch mewn trefn

3|| |3| 33|

3

**Dwbl
432 ydy**

4

**Dwbl
437 ydy**

5

$48 + 76 =$

6

$83 - 49 =$

7

$3 \times 40 =$

8

$\begin{array}{r} 36 \\ + 42 \\ \hline \end{array}$

9

$\begin{array}{r} 37 \\ + 89 \\ \hline \end{array}$

10

$\begin{array}{r} 96 \\ - 42 \\ \hline \end{array}$

FY SGÔR DDIWETHAF?!

A LWYDDAIS I GURO CLIC?!

10



Enw:

Dosbarth:

Dyddiad:



CLIC 12

WS: 2

1 16, 24, ,
48,

2 Rhowch mewn trefn
254 543 245

3 Dwbl
242 ydy

4 Dwbl
438 ydy

5 $37 + 58 =$

6 $85 - 58 =$

7 $5 \times 30 =$

8
$$\begin{array}{r} 53 \\ + 24 \\ \hline \end{array}$$

9
$$\begin{array}{r} 46 \\ + 78 \\ \hline \end{array}$$

10
$$\begin{array}{r} 75 \\ - 33 \\ \hline \end{array}$$

FY SGÔR DDIWETHAF?!

A LWYDDAIS I GURO CLIC?!

10



Enw:

Dosbarth:

Dyddiad:



CLIC 12

WS: 3

1

8, ,24, 32,
48,

2

Rhowch mewn trefn
627 672 276

3

**Dwbl
134 ydy**

4

**Dwbl
264 ydy**

5

$69 + 54 =$

6

$81 - 65 =$

7

$3 \times 90 =$

8

$\begin{array}{r} 71 \\ + 26 \\ \hline \end{array}$

9

$\begin{array}{r} 68 \\ + 54 \\ \hline \end{array}$

10

$\begin{array}{r} 87 \\ - 54 \\ \hline \end{array}$

FY SGÔR DDIWETHAF?!

A LWYDDAIS I GURO CLIC?!

10



Enw:

Dosbarth:

Dyddiad:



CLIC 12

WS: 4

1

16, 24, ,
40,

2

Rhowch mewn trefn
539 395 359

3

**Dwbl
334 ydy**

4

**Dwbl
186 ydy**

5

$75 + 86 =$

6

$74 - 47 =$

7

$3 \times 60 =$

8

$\begin{array}{r} 45 \\ + 33 \\ \hline \end{array}$

9

$\begin{array}{r} 75 \\ + 67 \\ \hline \end{array}$

10

$\begin{array}{r} 68 \\ - 25 \\ \hline \end{array}$

FY SGÔR DDIWETHAF?!

A LWYDDAIS I GURO CLIC?!

10



Enw:

Dosbarth:

Dyddiad:



CLIC 12

WS: 5

1

16, , 32,
, 48

2

Rhowch mewn trefn
468 846 486

3

Dwbl
423 ydy

4

Dwbl
397 ydy

5

$66 + 78 =$

6

$96 - 69 =$

7

$2 \times 80 =$

8

$\begin{array}{r} 62 \\ + 25 \\ \hline \end{array}$

9

$\begin{array}{r} 83 \\ + 29 \\ \hline \end{array}$

10

$\begin{array}{r} 49 \\ - 23 \\ \hline \end{array}$

FY SGÔR DDIWETHAF?!

A LWYDDAIS I GURO CLIC?!

10



Enw:

Dosbarth:

Dyddiad:



CLIC 12

WS: 6

1

$$\begin{array}{ccccccc} 8, & 16, & & , & & , & \\ & & & & & & 48 \end{array}$$

2

Rhowch mewn trefn

$$743 \quad 473 \quad 437$$

3

Dwbl
321 ydy

4

Dwbl
628 ydy

5

$$95 + 46 =$$

6

$$92 - 56 =$$

7

$$5 \times 80 =$$

8

$$\begin{array}{r} 23 \\ + 45 \\ \hline \end{array}$$

9

$$\begin{array}{r} 18 \\ + 97 \\ \hline \end{array}$$

10

$$\begin{array}{r} 56 \\ - 34 \\ \hline \end{array}$$

FY SGÔR DDIWETHAF?!

A LWYDDAIS I GURO CLIC?!

10



Enw:

Dosbarth:

Dyddiad:



CLIC 12

WS: 7

1

, 16, 24, ,
, 48

2

Rhowch mewn trefn
390 309 903

3

**Dwbl
124 ydy**

4

**Dwbl
756 ydy**

5

$72 + 39 =$

6

$67 - 48 =$

7

$3 \times 80 =$

8

$$\begin{array}{r} 51 \\ + 38 \\ \hline \end{array}$$

9

$$\begin{array}{r} 56 \\ + 75 \\ \hline \end{array}$$

10

$$\begin{array}{r} 77 \\ - 45 \\ \hline \end{array}$$

FY SGÔR DDIWETHAF?!

A LWYDDAIS I GURO CLIC?!

10



Enw:

Dosbarth:

Dyddiad:



CLIC 12

WS: 8

1

16, 24, , ,
48, 56,

2

Rhowch mewn trefn

68 | 86 | 816

3

**Dwbl
313 ydy**

4

**Dwbl
875 ydy**

5

$57 + 56 =$

6

$84 - 57 =$

7

$2 \times 40 =$

8

$$\begin{array}{r} 42 \\ + 46 \\ \hline \end{array}$$

9

$$\begin{array}{r} 78 \\ + 68 \\ \hline \end{array}$$

10

$$\begin{array}{r} 85 \\ - 52 \\ \hline \end{array}$$

FY SGÔR DDIWETHAF?!

A LWYDDAIS I GURO CLIC?!

10



Enw:

Dosbarth:

Dyddiad:



CLIC 12

WS: 9

1

8, 16, , , 40
48, , 64

2

Rhowch mewn trefn
574 754 547

3

Dwbl
332 ydy

4

Dwbl
966 ydy

5

$67 + 85 =$

6

$93 - 56 =$

7

$4 \times 90 =$

8

$\begin{array}{r} 85 \\ + 12 \\ \hline \end{array}$

9

$\begin{array}{r} 86 \\ + 49 \\ \hline \end{array}$

10

$\begin{array}{r} 63 \\ - 22 \\ \hline \end{array}$

FY SGÔR DDIWETHAF?!

A LWYDDAIS I GURO CLIC?!

10



Enw:

Dosbarth:

Dyddiad:



CLIC 12

WS: 10

1 24, 40, ,
56,

2 Rhwch mewn trefn
435 453 543

3 Dwbl
141 ydy

4 Dwbl
586 ydy

5 $36 + 88 =$

6 $75 - 48 =$

7 $2 \times 70 =$

8
$$\begin{array}{r} 34 \\ + 44 \\ \hline \end{array}$$

9
$$\begin{array}{r} 67 \\ + 86 \\ \hline \end{array}$$

10
$$\begin{array}{r} 98 \\ - 64 \\ \hline \end{array}$$

FY SGÔR DDIWETHAF?!

A LWYDDAIS I GURO CLIC?!

10



Enw:

Dosbarth:

Dyddiad:



1

$$\begin{array}{r} 4389 \\ \diagup \quad \diagdown \quad \diagup \quad \diagdown \end{array}$$

2 Rhowch mewn trefn
3142 2143 2431

3

36, , 54, , 72

4

1250, 1500, 1750,
2000,



6

483 + = 1000

7

$36 \times 100 =$

8 Ysgrifennwch y cerdyn ceiniogau... x21

| | |
|-------------|--|
| x 21 | |
| 1 | |
| 2 | |
| 5 | |
| 10 | |

9

$810 \div 10 =$

10

$$\begin{array}{r} 76 \\ - 48 \\ \hline \end{array}$$



Enw:

Dosbarth:

Dyddiad:



1

$$\begin{array}{c} 2615 \\ \diagdown \quad \diagup \quad \diagdown \quad \diagup \end{array}$$

2 Rhowch mewn trefn

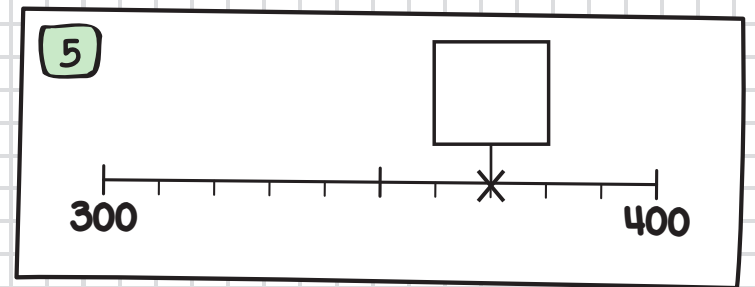
4625 5246 4256

3

18, 24, , , 42

4

500, , 1000,
1250,



6

275 + = 1000

7

43 x 100 =

8 Ysgrifennwch y cerdyn ceiniogau... x31

| | |
|-------------|--|
| x 31 | |
| 1 | |
| 2 | |
| 5 | |
| 10 | |

9

530 ÷ 10 =

10

$$\begin{array}{r} 82 \\ - 37 \\ \hline \end{array}$$



Enw:

Dosbarth:

Dyddiad:



1

$$\begin{array}{r} 5437 \\ \diagup \quad \diagdown \quad \diagup \quad \diagdown \end{array}$$

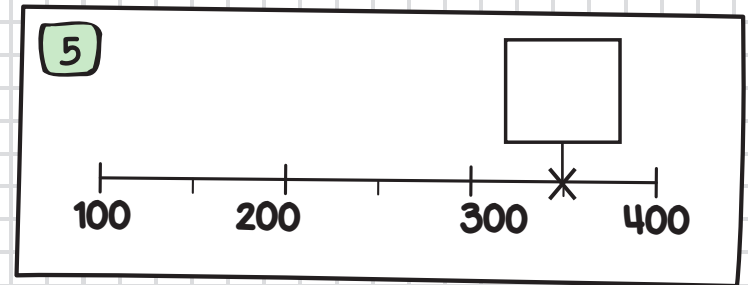
2 Rhowch mewn trefn
5381 8135 5138

3

21, 28, , , 49

4

0, 2500,
, 7500,



6

$614 + \quad = 1000$

7

$57 \times 100 =$

8

Ysgrifennwch y cerdyn ceiniogau... $\times 42$

| | |
|-------------|--|
| $\times 42$ | |
| 1 | |
| 2 | |
| 5 | |
| 10 | |

9

$470 \div 10 =$

10

$$\begin{array}{r} 64 \\ - 19 \\ \hline \end{array}$$



Enw:

Dosbarth:

Dyddiad:



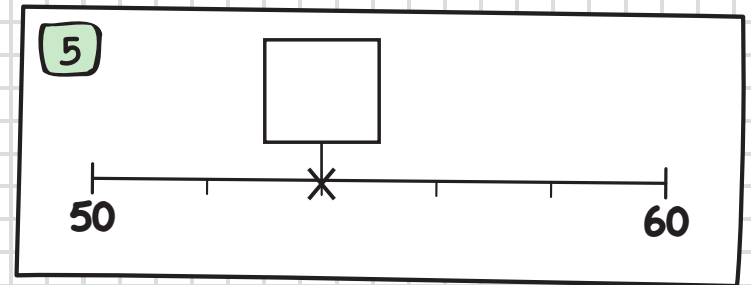
1 6572

Diagram showing the number 6572 with lines connecting the digits to a common point below them, likely representing a place value chart or a similar mathematical concept.

2 Rhowch mewn trefn
2374 3472 3427

3 18, , , 45, 54

4 5000, 7500, 10000,
, ,



6 $736 + = 1000$

7 $28 \times 100 =$

8 Ysgrifennwch y cerdyn ceiniogau... x32

| | |
|------|--|
| x 32 | |
| 1 | |
| 2 | |
| 5 | |
| 10 | |

9 $720 \div 10 =$

10 $53 - 26$



Enw:

Dosbarth:

Dyddiad:



1

$$\begin{array}{c} 3748 \\ \diagdown \quad \diagup \quad \diagdown \quad \diagup \end{array}$$

2 Rhowch mewn trefn

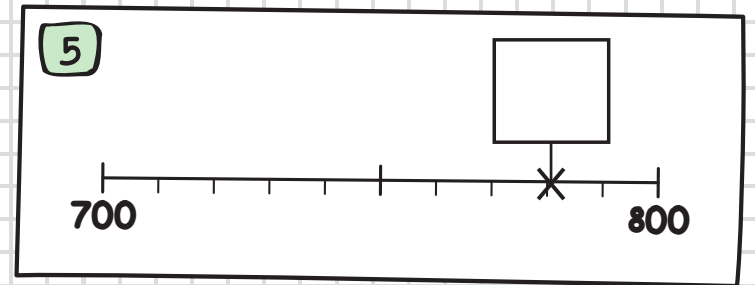
6409 6094 4960

3

30, , 42, , 54

4

2750, 3000,
, , 3750



6

809 + = 1000

7

65 x 100 =

8 Ysgrifennwch y cerdyn ceiniogau... x24

| | |
|------|--|
| x 24 | |
| 1 | |
| 2 | |
| 5 | |
| 10 | |

9

380 ÷ 10 =

10

$$\begin{array}{r} 91 \\ - 65 \\ \hline \end{array}$$



Enw:

Dosbarth:

Dyddiad:



1

$$\begin{array}{c} 8263 \\ \diagdown \quad \diagup \quad \diagdown \quad \diagup \end{array}$$

2 Rhowch mewn trefn

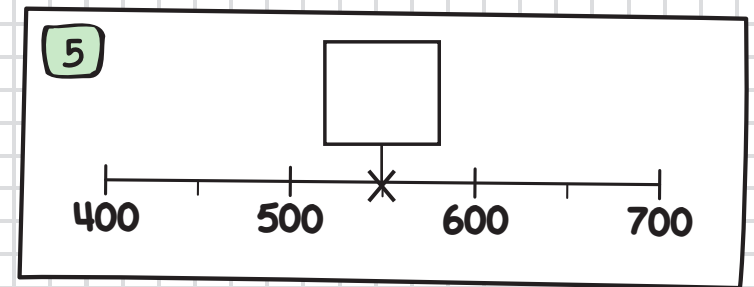
3785 3587 5738

3

42, 49, , , 70

4

6000, , ,
6750, 7000



6

$362 + = 1000$

7

$91 \times 100 =$

8 Ysgrifennwch y cerdyn ceiniogau... x36

| | |
|------|--|
| x 36 | |
| 1 | |
| 2 | |
| 5 | |
| 10 | |

9

$660 \div 10 =$

10

$$\begin{array}{r} 45 \\ - 28 \\ \hline \end{array}$$



Enw:

Dosbarth:

Dyddiad:



1

7194

2 Rhowch mewn trefn

7613 7316 6731

3

45, 54, 63, ,

4

2500, , 7500,

10000,

5

6

548 + = 1000

7

84 x 100 =

8 Ysgrifennwch y cerdyn ceiniogau... x18

| | |
|-------------|--|
| x 18 | |
| 1 | |
| 2 | |
| 5 | |
| 10 | |

9

910 ÷ 10 =

10

84

- 59



Enw:

Dosbarth:

Dyddiad:



1

1956

2 Rhowch mewn trefn

7865 5876 5768

3

36, 42, , 54,

4

1500, 1750, ,

, 2500

5

6

171 + = 1000

7

76 x 100 =

8 Ysgrifennwch y cerdyn ceiniogau... x26

| | |
|------|--|
| x 26 | |
| 1 | |
| 2 | |
| 5 | |
| 10 | |

9

840 ÷ 10 =

10

72

- 37



Enw:

Dosbarth:

Dyddiad:



1

$$\begin{array}{c} 9861 \\ \diagdown \quad \diagup \quad \diagdown \quad \diagup \end{array}$$

2 Rhowch mewn trefn

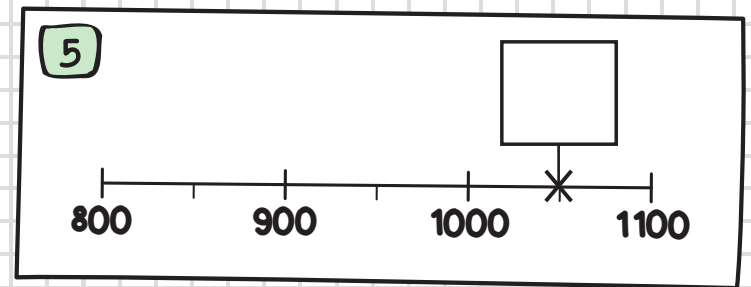
8491 8194 8419

3

35, , 49, , 63

4

7500, , 12500,
15000,



6

263 + = 1000

7

49 x 100 =

8 Ysgrifennwch y cerdyn ceiniogau... x44

| | |
|------|--|
| x 44 | |
| 1 | |
| 2 | |
| 5 | |
| 10 | |

9

450 ÷ 10 =

10

$$\begin{array}{r} 63 \\ - 45 \\ \hline \end{array}$$



Enw:

Dosbarth:

Dyddiad:



1

$$\begin{array}{c} 6745 \\ \diagdown \quad \diagup \quad \diagdown \quad \diagup \end{array}$$

2 Rhowch mewn trefn

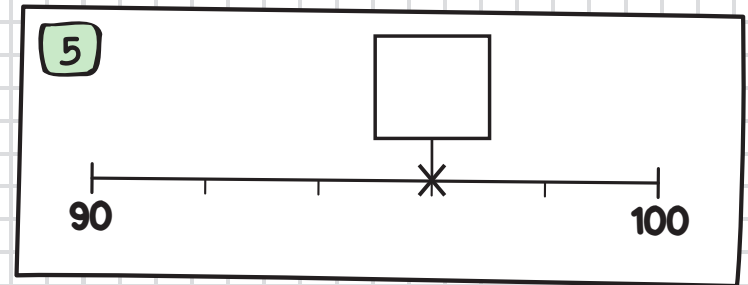
5378 5783 5387

3

54, , , 81, 90

4

750, , ,
1500, 1750



6

457 + = 1000

7

68 x 100 =

8 Ysgrifennwch y cerdyn ceiniogau... x38

| | |
|-------------|--|
| x 38 | |
| 1 | |
| 2 | |
| 5 | |
| 10 | |

9

560 ÷ 10 =

10

$$\begin{array}{r} 94 \\ - 38 \\ \hline \end{array}$$


Enw:

Dosbarth:

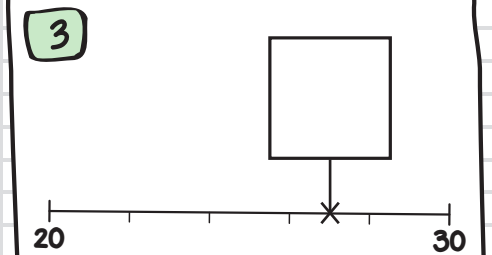
Dyddiad:

1 Rhowch mewn trefn
4.6 6.4 4.4

2



4.25 4.5 4.75



4 $3000 + 8000 =$

5 Hanner 45 ydy

6 Ysgrifennwch y cerdyn ceiniogau... x21

| x 21 | |
|------|--|
| 1 | |
| 2 | |
| 5 | |
| 10 | |
| 20 | |
| 50 | |
| 100 | |

7 Mae Llion yn cuddio fu ôl lluosrif mwyaf **4** heb fynd hebio **50**

8 $423 + 25 =$



9 $48 \div 5 =$



10

$$\begin{array}{r} 442 \\ + 36 \\ \hline \end{array}$$




Enw:

Dosbarth:

Dyddiad:



CLIC 14

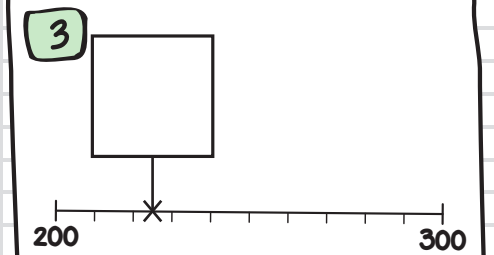
WS: 2

1 Rhowch mewn trefn
3.7 3.3 7.3

2



12 14 16



4 $6000 + 7000 =$

5 Hanner 23 ydy

6 Ysgrifennwch y cerdyn ceiniogau... $\times 31$

| $\times 31$ | |
|-------------|--|
| 1 | |
| 2 | |
| 5 | |
| 10 | |
| 20 | |
| 50 | |
| 100 | |

7 Mae Llion yn cuddio fu ôl lluosrif mwyaf 3 heb fynd hebio 40

8 $534 + 62 =$



9 $26 \div 3 =$



10

$$\begin{array}{r} 364 \\ + 25 \\ \hline \end{array}$$


FY SGÔR DDIWETHAF?!

A LWYDDAIS I GURO CLIC?!


10

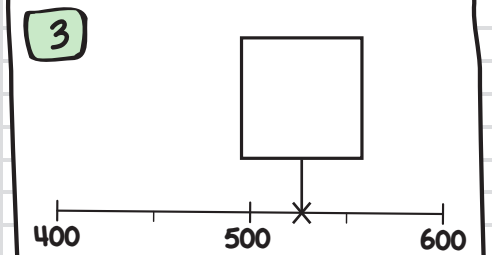
Enw:

Dosbarth:

Dyddiad:

1 Rhowch mewn trefn
5.2 5.5 2.5

2 
20 25 30



4 $8000 + 4000 =$

5 Hanner 67 ydy

6 Ysgrifennwch y cerdyn ceiniogau... $\times 42$

| | |
|-------------|--|
| $\times 42$ | |
| 1 | |
| 2 | |
| 5 | |
| 10 | |
| 20 | |
| 50 | |
| 100 | |

7 Mae Llion yn cuddio fu ôl lluosrif mwyaf **5** heb fynd hebio **68**

8 $251 + 36 =$

9 $30 \div 4 =$

10 $535 + 43$

Enw:

Dosbarth:

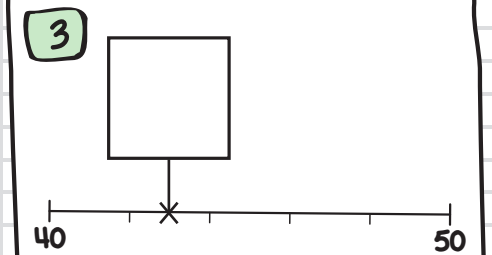
Dyddiad:

1 Rhowch mewn trefn
8.8 7.8 8.7

2



3.2 3.4 3.8



4 $9000 + 3000 =$

5 Hanner 89 ydy

6 Ysgrifennwch y cerdyn ceiniogau... $\times 32$

| | |
|-------------|--|
| $\times 32$ | |
| 1 | |
| 2 | |
| 5 | |
| 10 | |
| 20 | |
| 50 | |
| 100 | |

7 Mae Llion yn cuddio fu ôl lluosrif mwyaf 10 heb fynd hebio 134

8 $612 + 54 =$



9 $17 \div 2 =$



10

$$\begin{array}{r} 257 \\ + 32 \\ \hline \end{array}$$




Enw:

Dosbarth:


Dyddiad:

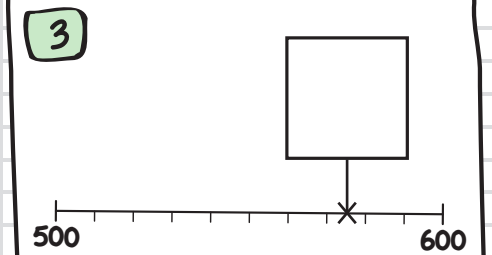


CLIC 14

WS: 5

1 Rhowch mewn trefn
6.4 4.6 6.6

2  5.75 6 6.5



4 $5000 + 4000 =$

5 Hanner 35 ydy

6 Ysgrifennwch y cerdyn ceiniogau... $\times 24$

| $\times 24$ | |
|-------------|--|
| 1 | |
| 2 | |
| 5 | |
| 10 | |
| 20 | |
| 50 | |
| 100 | |

7 Mae Llion yn cuddio fu ôl lluosrif mwyaf 2 heb fynd hebio 29

8 $165 + 23 =$



9 $41 \div 5 =$



10 $663 + 24$



FY SGÔR DDIWETHAF?!

A LWYDDAIS I GURO CLIC?!


10

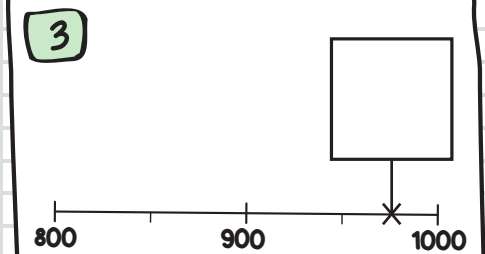
Enw:

Dosbarth:

Dyddiad:

1 Rhowch mewn trefn
2.3 3.2 2.2

2 
6 6.5 7.5



4 $8000 + 7000 =$

5 Hanner 73 ydy

6 Ysgrifennwch y cerdyn ceiniogau... $\times 36$

| | |
|-------------|--|
| $\times 36$ | |
| 1 | |
| 2 | |
| 5 | |
| 10 | |
| 20 | |
| 50 | |
| 100 | |

7 Mae Llion yn cuddio fu ôl lluosrif mwyaf **4** heb fynd hebio **49**

8 $726 + 32 =$



9 $20 \div 3 =$



10
$$\begin{array}{r} 718 \\ + 61 \\ \hline \end{array}$$





Enw:

Dosbarth:

Dyddiad:

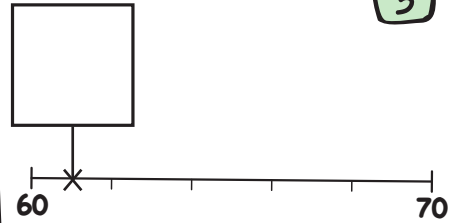


CLIC 14

WS: 7

1 Rhowch mewn trefn
9.8 8.8 8.9

2 
7 7.4 7.6

3 

4 $8000 + 9000 =$

5 Hanner 57 ydy

6 Ysgrifennwch y cerdyn ceiniogau... $\times 18$

| $\times 18$ |
|-------------|
| 1 |
| 2 |
| 5 |
| 10 |
| 20 |
| 50 |
| 100 |

7 Mae Llion yn cuddio fu ôl lluosrif mwyaf heb fynd hebio

8 $861 + 27 =$



9 $19 \div 4 =$



10 $263 + 36$



FY SGÔR DDIWETHAF?!

A LWYDDAIS I GURO CLIC?!

10

Enw:

Dosbarth:

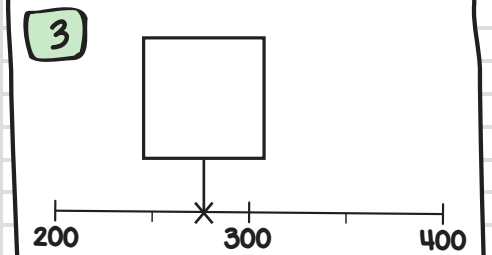
Dyddiad:

1 Rhowch mewn trefn
7.4 4.7 7.7

2



4.5 5.0 5.5



4 $7000 + 7000 =$

5 Hanner 55 ydy

6 Ysgrifennwch y cerdyn ceiniogau... $\times 44$

| | |
|-------------|--|
| $\times 44$ | |
| 1 | |
| 2 | |
| 5 | |
| 10 | |
| 20 | |
| 50 | |
| 100 | |

7 Mae Llion yn cuddio fu ôl lluosrif mwyaf 10 heb fynd hebio 148

8 $514 + 74 =$



9 $29 \div 5 =$



10

$$\begin{array}{r} 615 \\ + 43 \\ \hline \end{array}$$




Enw:

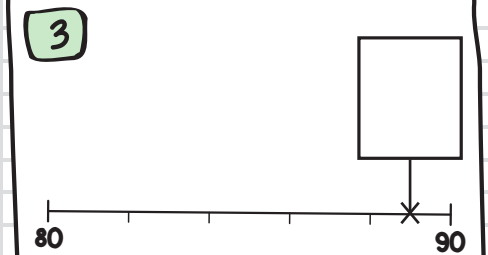
Dosbarth:

Dyddiad:



1 Rhowch mewn trefn
8.8 6.8 8.6

2 
3.0 3.25 3.75



4 $9000 + 9000 =$

5 Hanner 97 ydy

6 Ysgrifennwch y
cerdyn ceiniogau... $\times 38$

| | |
|-------------|--|
| $\times 38$ | |
| 1 | |
| 2 | |
| 5 | |
| 10 | |
| 20 | |
| 50 | |
| 100 | |

7 Mae Llion yn
cuddio fu ôl lluosrif
mwyaf 4 heb fynd
hebio 57

8 $481 + 18 =$



9 $26 \div 4 =$



10 $365 + 32$



Enw:

Dosbarth:

Dyddiad:

1 Rhowch mewn trefn
4.21 2.41 2.21

2 Hanner 356 ydy

3 $48 \div 10 =$

4 Ysgrifennwch 5
ffactor o 36:

5 $476 - 84 =$

6 $526 + 49 =$

7 $3 \times 82 =$

8 $53 \div 4 =$

9
$$\begin{array}{r} 981 \\ - 32 \\ \hline \end{array}$$

10
$$\begin{array}{r} 35 \\ \times 5 \\ \hline \end{array}$$



Enw:

Dosbarth:

Dyddiad:



CLIC 15

WS: 2

1 Rhowch mewn trefn
5.73 5.37 7.53

2 Hanner 438 ydy

3 $76 \div 10 =$

4 Ysgrifennwch 4
ffactor o 12:

5 $682 - 35 =$


6 $345 + 37 =$

7 $4 \times 73 =$

8 $37 \div 3 =$

9
$$\begin{array}{r} 842 \\ - 26 \\ \hline \end{array}$$

10
$$\begin{array}{r} 64 \\ \times 4 \\ \hline \end{array}$$



FY SGÔR DDIWETHAF?!

A LWYDDAIS I GURO CLIC?!

10

Enw:

Dosbarth:

Dyddiad:

1 Rhowch mewn trefn
3.84 4.83 4.38

2 Hanner **674** ydy

3 $94 \div 10 =$

4 Ysgrifennwch 6
ffactor o 24:

5 $543 - 72 =$

6 $483 + 52 =$

7 $5 \times 64 =$

8 $68 \div 5 =$

9
$$\begin{array}{r} 682 \\ - 54 \\ \hline \end{array}$$

10
$$\begin{array}{r} 84 \\ \times 3 \\ \hline \end{array}$$



Enw:

Dosbarth:

Dyddiad:



CLIC 15

WS: 4

1 Rhowch mewn trefn
6.51 5.61 6.15

2 Hanner 532 ydy

3 $35 \div 10 =$

4 Ysgrifennwch 6
ffactor o 40:

5 $218 - 63 =$


6 $274 + 65 =$

7 2×87

8 $29 \div 2 =$

9
$$\begin{array}{r} 733 \\ - 81 \\ \hline \end{array}$$

10
$$\begin{array}{r} 78 \\ \times 2 \\ \hline \end{array}$$



FY SGÔR DDIWETHAF?!

A LWYDDAIS I GURO CLIC?!

10

Enw:

Dosbarth:

Dyddiad:

1 Rhowch mewn trefn

3.28 2.83 3.82

2

Hanner 396 ydy

3

$$63 \div 10 =$$

4

Ysgrifennwch 6
ffactor o 60:

5

$$645 - 57 =$$

6

$$567 + 48 =$$

7

$$3 \times 55 =$$

8

$$69 \div 4 =$$

9

$$\begin{array}{r} 823 \\ - 56 \\ \hline \end{array}$$

10

$$\begin{array}{r} 57 \\ \times 5 \\ \hline \end{array}$$



Enw:

Dosbarth:

Dyddiad:



CLIC 15

WS: 6

1 Rhowch mewn trefn
8.97 8.79 9.87

2 Hanner 784 ydy

3 $135 \div 10 =$

4 Ysgrifennwch 6
ffactor o 56:

5 $764 - 18 =$

6 $785 + 87 =$

7 $4 \times 68 =$

8 $58 \div 3 =$

9
$$\begin{array}{r} 415 \\ - 39 \\ \hline \end{array}$$

10
$$\begin{array}{r} 74 \\ \times 4 \\ \hline \end{array}$$

FY SGÔR DDIWETHAF?!

A LWYDDAIS I GURO CLIC?!

10

Enw:

Dosbarth:

Dyddiad:

1 Rhowch mewn trefn
4.58 5.48 4.85

2
Hanner 558 ydy

3 $246 \div 10 =$

4 Ysgrifennwch 5
ffactor o 64:

5 $581 - 26 =$

6 $394 + 39 =$

7
 $5 \times 47 =$

8 $71 \div 5 =$

9
$$\begin{array}{r} 347 \\ - 28 \\ \hline \end{array}$$

10
$$\begin{array}{r} 66 \\ \times 3 \\ \hline \end{array}$$

Enw:

Dosbarth:

Dyddiad:

1 Rhowch mewn trefn
7.36 6.73 6.37

2 Hanner **372** ydy

3 $367 \div 10 =$

4 Ysgrifennwch 6
ffactor o 72:

5 $940 - 86 =$

6 $678 + 75 =$

7 $3 \times 76 =$

8 $53 \div 4 =$

9
$$\begin{array}{r} 242 \\ - 87 \\ \hline \end{array}$$

10
$$\begin{array}{r} 97 \\ \times 2 \\ \hline \end{array}$$



Enw:

Dosbarth:

Dyddiad:



CLIC 15

WS: 9

1 Rhowch mewn trefn
5.87 5.78 8.57

2 Hanner 956 ydy

3 $528 \div 10 =$

4 Ysgrifennwch 6
ffactor o 100:

5 $426 - 59 =$

6 $467 + 94 =$

7 $4 \times 39 =$

8 $50 \div 3 =$

9
$$\begin{array}{r} 526 \\ - 69 \\ \hline \end{array}$$

10
$$\begin{array}{r} 86 \\ \times 5 \\ \hline \end{array}$$

FY SGÔR DDIWETHAF?!

A LWYDDAIS I GURO CLIC?!

10

Enw:

Dosbarth:

Dyddiad:

1 Rhowch mewn trefn
6.12 6.22 6.21

2 Hanner **794** ydy

3 $654 \div 10 =$

4 Ysgrifennwch 6 ffactor o 48:

5 $637 - 48 =$

6 $559 + 78 =$

7 $5 \times 76 =$

8 $86 \div 5 =$

9
$$\begin{array}{r} 603 \\ - 46 \\ \hline \end{array}$$

10
$$\begin{array}{r} 93 \\ \times 4 \\ \hline \end{array}$$



Enw:

Dosbarth:

Dyddiad:



1 4.6

2

| | | | | |
|------|------|------|------|--|
| -182 | -181 | -180 | -179 | |
|------|------|------|------|--|

3 $4.6 \times 10 =$



4 Mae Llion yn cuddio tu ôl lluosrif mwyaf 4 heb fynd hebio 362

5 $0.6 + 0.8 =$

6 $7 \times 8 =$

7 $50 \div 6 =$

8 $80 \div 6 =$

9
$$\begin{array}{r} 985 \\ - 596 \\ \hline \end{array}$$

10
$$3 \overline{)297}$$



Enw:

Dosbarth:

Dyddiad:



1 3.7

2

3 $53 \times 10 =$



4 Mae Llion yn cuddio tu ôl lluosrif mwyaf $\boxed{3}$ heb fynd hebio $\boxed{271}$

5 $0.7 + 0.4 =$

6 $6 \times 7 =$

7 $47 \div 9 =$

8 $120 \div 9 =$

9
$$\begin{array}{r} 467 \\ - 231 \\ \hline \end{array}$$

10
$$5 \overline{)290}$$



Enw:

Dosbarth:

Dyddiad:



1 5.8

2

| | | | |
|-----|-----|-----|-----|
| -32 | -31 | -29 | -28 |
|-----|-----|-----|-----|

3 $97 \times 10 =$



4 Mae Llion yn cuddio tu ôl lluosrif mwyaf 5 heb fynd hebio 453

5 $0.5 + 0.3 =$

6 $6 \times 8 =$

7 $60 \div 8 =$

8 $100 \div 8 =$

9 $793 - 388$

10 $4 \overline{)192}$



Enw:

Dosbarth:

Dyddiad:



1

7.4

Diagram showing 7.4 with lines branching out from the decimal point.

2

Diagram showing a vampire character peeking over a number line with boxes containing -90, -88, -87, and -86.

3

13.4 x 10 =



4

Mae Llion yn cuddio tu ôl lluosrif mwyaf 6 heb fynd hebio 425

5

0.4 + 0.6 =

6

7 x 9 =

7

53 ÷ 7 =

8

102 ÷ 7 =

9

431
- 284

10

6 | 312



Enw:

Dosbarth:

Dyddiad:



1 2.9

2

| | | | | |
|----|----|----|----|--|
| 55 | 54 | 55 | 56 | |
|----|----|----|----|--|

3 $361 \times 10 =$



4 Mae Llion yn cuddio tu ôl lluosrif mwyaf 7 heb fynd hebio 564

5 $0.7 + 0.7 =$

6 $6 \times 9 =$

7 $58 \div 6 =$

8 $93 \div 6 =$

9
$$\begin{array}{r} 754 \\ - 541 \\ \hline \end{array}$$

10
$$8 \overline{)504}$$



Enw:

Dosbarth:

Dyddiad:



1

$$\begin{array}{r} 8.5 \\ \diagup \quad \diagdown \end{array}$$

2

3

$$45.2 \times 10 =$$


4

Mae Llion yn cuddio tu ôl lluosrif mwyaf **8** heb fynd hebio **647**

5

$$0.8 + 0.9 =$$

6

$$8 \times 9 =$$

7

$$75 \div 9 =$$

8

$$137 \div 9 =$$

9

$$\begin{array}{r} 319 \\ - 156 \\ \hline \end{array}$$

10

$$4 \overline{) 210}$$



Enw:

Dosbarth:

Dyddiad:



1

$$\begin{array}{r} 9.3 \\ \hline \end{array}$$

2

3

$$826 \times 10 =$$


4

Mae Llion yn cuddio tu ôl lluosrif mwyaf $\boxed{9}$ heb fynd hebio $\boxed{816}$

5

$$0.6 + 0.7 =$$

6

$$7 \times 7 =$$

7

$$78 \div 8 =$$

8

$$140 \div 8 =$$

9

$$\begin{array}{r} 432 \\ - 389 \\ \hline \end{array}$$

10

$$7 \overline{)609}$$


Enw:

Dosbarth:

Dyddiad:

1 6.2

2



| | | | | |
|----|----|----|----|--|
| 77 | 78 | 79 | 80 | |
|----|----|----|----|--|

3 $0.74 \times 10 =$




4 Mae Llion yn cuddio tu ôl lluosrif mwyaf 6 heb fynd hebio 304


5 $0.9 + 0.9 =$

6 $6 \times 9 =$


7 $60 \div 7 =$




8 $94 \div 7 =$



9
$$\begin{array}{r} 654 \\ - 286 \\ \hline \end{array}$$



10
$$4 \overline{)224}$$






Enw:

Dosbarth:

Dyddiad:



1 3.4

2  -21 -20 -18 -17


3 $0.382 \times 10 =$





4 Mae Llion yn cuddio tu ôl lluosrif mwyaf 7 heb fynd hebio 635


5 $0.5 + 0.8 =$

6 $8 \times 4 =$

7 $45 \div 6 =$ 

8 $115 \div 6 =$ 

9
$$\begin{array}{r} 671 \\ - 456 \\ \hline \end{array}$$
 

10 $7 \overline{) 518}$ 


Enw:

Dosbarth:

Dyddiad:

1 7.6

2



-211 -210 -209 -208

3 $2615 \times 10 =$




4 Mae Llion yn cuddio tu ôl lluosrif mwyaf 8 heb fynd hebio 723


5 $0.8 + 0.6 =$

6 $7 \times 6 =$


7 $86 \div 9 =$




8 $156 \div 9 =$



9 $531 - 356$



10 $4 \overline{)292}$





Enw:

Dosbarth:

Dyddiad:



CLIC 17

WS: 1


1 4.89

2 $0.08 + 0.07 =$

3 $2.8 \times 100 =$
 $13.8 \div 10 =$

4 $4 \times 0.7 =$

5 **$4134 - 75 =$**



6 $8 \times 79 =$

7 $423 \div 6 =$

8
$$\begin{array}{r} 5686 \\ - 749 \\ \hline \end{array}$$

9
$$\begin{array}{r} 85 \\ \times 6 \\ \hline \end{array}$$

10 $9 \overline{)3654}$



Enw:

Dosbarth:

Dyddiad:



CLIC 17

WS: 2


1 3.76

2 $0.06 + 0.09 =$

3 $4.6 \times 100 =$
 $26.5 \div 10 =$

4 $6 \times 0.8 =$

5 $3625 - 64 =$



6 $6 \times 54 =$

7 $254 \div 5 =$

8
$$\begin{array}{r} 7283 \\ - 27 \\ \hline \end{array}$$

9
$$\begin{array}{r} 73 \\ \times 4 \\ \hline \end{array}$$

10
$$6 \overline{)3270}$$

Enw:

Dosbarth:

Dyddiad:


1 5.28

2 $0.03 + 0.05 =$

3 $3.52 \times 100 =$
 $54.7 \div 10 =$

4 $3 \times 0.6 =$

5 **$1921 - 58 =$**



6 $7 \times 63 =$

7 $492 \div 7 =$

8
$$\begin{array}{r} 2461 \\ - 615 \\ \hline \end{array}$$

9
$$\begin{array}{r} 68 \\ \times 7 \\ \hline \end{array}$$

10
$$7 \overline{)5061}$$

Enw:

Dosbarth:

Dyddiad:


1 6.35

2 $0.07 + 0.06 =$

3 $7.81 \times 100 =$
 $82.4 \div 10 =$

4 $5 \times 0.9 =$

5 $5362 - 47 =$



6 $9 \times 48 =$

7 $325 \div 8 =$

8
$$\begin{array}{r} 1820 \\ - 76 \\ \hline \end{array}$$

9
$$\begin{array}{r} 54 \\ \times 8 \\ \hline \end{array}$$

10 $8 \overline{)6944}$



Enw:

Dosbarth:

Dyddiad:



CLIC 17

WS: 5


1 8.17

2 $0.04 + 0.08 =$

3 $0.26 \times 100 =$
 $78.3 \div 10 =$

4 $8 \times 0.7 =$

5 $6180 - 23 =$



6 $8 \times 37 =$

7 $458 \div 9 =$

8
$$\begin{array}{r} 4354 \\ - 187 \\ \hline \end{array}$$

9
$$\begin{array}{r} 47 \\ \times 9 \\ \hline \end{array}$$

10
$$5 \overline{)7345}$$

Enw:

Dosbarth:

Dyddiad:


1
$$\begin{array}{r} 2.43 \\ \diagup \quad | \quad \diagdown \end{array}$$

2 $0.09 + 0.03 =$

3 $0.75 \times 100 =$
 $56.4 \div 10 =$

4 $9 \times 0.4 =$

5 **$2513 - 36 =$**



6 $6 \times 85 =$

7 $543 \div 6 =$

8
$$\begin{array}{r} 68 \overline{) 5} \\ - 89 \\ \hline \end{array}$$

9
$$\begin{array}{r} 83 \\ \times 7 \\ \hline \end{array}$$

10
$$9 \overline{) 4086}$$

Enw:

Dosbarth:

Dyddiad:


1 7.64

2 $0.08 + 0.05 =$

3 $0.064 \times 100 =$
 $3.71 \div 10 =$

4 $7 \times 0.6 =$

5 $7435 - 88 =$



6 $9 \times 58 =$

7 $285 \div 7 =$

8
$$\begin{array}{r} 5423 \\ - 638 \\ \hline \end{array}$$

9
$$\begin{array}{r} 96 \\ \times 4 \\ \hline \end{array}$$

10
$$6 \overline{) 5172}$$

Enw:

Dosbarth:

Dyddiad:

1 9.52

2 $0.07 + 0.09 =$

3 $0.092 \times 100 =$

$1.89 \div 10 =$

4 $6 \times 0.9 =$

5 **$3648 - 59 =$**

6 **$7 \times 92 =$**

7 $724 \div 8 =$

8
$$\begin{array}{r} 72 \overline{) 676} \\ - 48 \\ \hline \end{array}$$

9
$$\begin{array}{r} 75 \\ \times 6 \\ \hline \end{array}$$

10
$$7 \overline{) 6762}$$



Enw:

Dosbarth:

Dyddiad:



CLIC 17

WS: 9


1 3.67

2 $0.06 + 0.08 =$

3 $0.07 \times 100 =$
 $0.74 \div 10 =$

4 $5 \times 0.7 =$

5 $4253 - 78 =$



6 $8 \times 67 =$

7 $632 \div 9 =$

8
$$\begin{array}{r} 3165 \\ - 488 \\ \hline \end{array}$$

9
$$\begin{array}{r} 57 \\ \times 8 \\ \hline \end{array}$$

10
$$8 \overline{)7568}$$

Enw:

Dosbarth:

Dyddiad:


1 8.46

2 $0.09 + 0.09 =$

3 $0.009 \times 100 =$
 $0.435 \div 10 =$

4 $9 \times 0.9 =$

5 $6512 - 43 =$



6 $6 \times 94 =$

7 $482 \div 6 =$

8
$$\begin{array}{r} 8026 \\ - 359 \\ \hline \end{array}$$

9
$$\begin{array}{r} 64 \\ \times 9 \\ \hline \end{array}$$

10
$$5 \overline{)9695}$$



Enw:

Dosbarth:

Dyddiad:

1 $4 \times 0.09 =$

2 Talgrynnwch i'r
1000 agosaf
2,567,328

3

| | | | | |
|----|---|-----|-----|--|
| 25 | 0 | -25 | -50 | |
|----|---|-----|-----|--|

4

| | |
|----|------------|
| -3 | y bwlch yw |
| -7 | |

5

4.8 + = 10

6 cylchwch y
rhifau cysefin

3 9 15 17

7 $463 - 189 =$

8

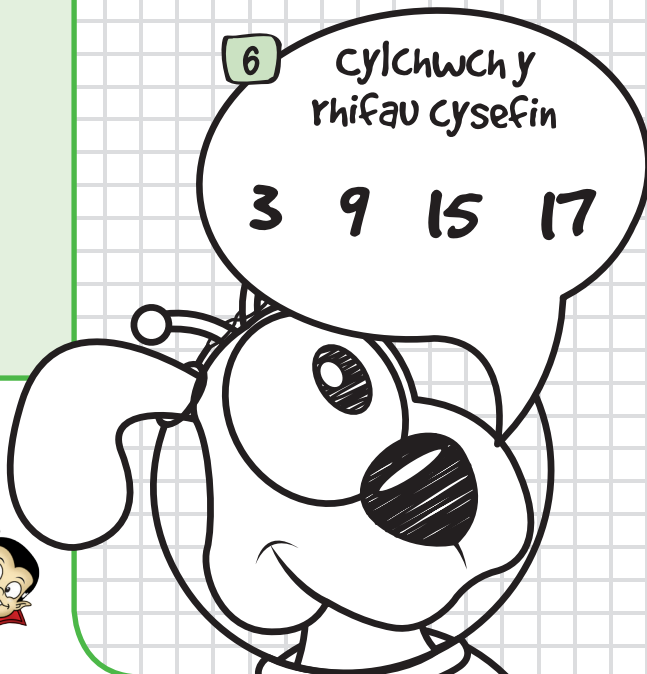
$$\begin{array}{r} 5686 \\ + 749 \\ \hline \end{array}$$

9

$$\begin{array}{r} 95686 \\ - 54749 \\ \hline \end{array}$$

10

$$6 \overline{)503}$$





Enw:

Dosbarth:

Dyddiad:

1 $3 \times 0.07 =$

2 Talgrynnwch i'r
100 agosaf
84,657

3

| | | | | |
|---|-----|--|-----|------|
| 0 | -25 | | -75 | -100 |
|---|-----|--|-----|------|

4

| | |
|----|------------|
| -1 | y bwlch yw |
| -8 | |

5

$$3.76 + \quad = 10$$

6 cylchwch y
rhifau cysefin

2 11 21 31

7 $534 - 278 =$

8

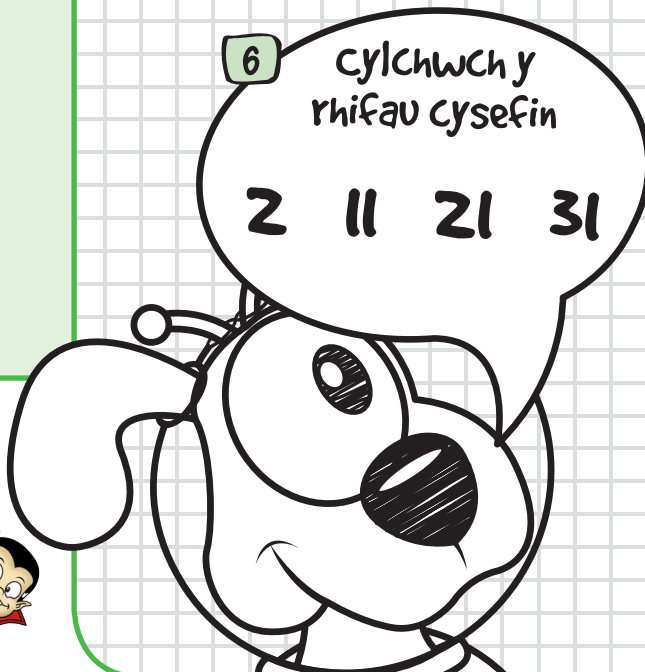
$$\begin{array}{r} 4837 \\ + \quad 68 \\ \hline \end{array}$$

9

$$\begin{array}{r} 68324 \\ - 12507 \\ \hline \end{array}$$

10

$$7 \overline{)95}$$






Enw:

Dosbarth:

Dyddiad:

1 $6 \times 0.04 =$

2 Talgrynnwch i'r
10,000 agosaf
436,594

3 
50 25 0 -25

4 -4 -9 y bwlch yw

5 $0.54 + = 1$

6 cylchuwch y
rhifau cysefin


9 19 29 39

7 $326 - 167 =$

8 $6478 + 296$

9 $36845 - 13257$

10 $8 \overline{)137}$



FY SGÔR DDIWETHAF?!

A LWYDDAIS I GURO CLIC?!



Enw:

Dosbarth:

Dyddiad:

1 $7 \times 0.08 =$

2 Talgrynnwch i'r
1,000,000 agosaf
48,476,493

3

| | | | | |
|-----|-----|--|------|------|
| -50 | -75 | | -125 | -150 |
|-----|-----|--|------|------|

4

| | |
|----|------------|
| -2 | y bwlch yw |
| -6 | |

5

10 - = 6.3

6 cylchwch y
rhifau cysefin

7 13 27 33

7 $748 - 382 =$

8

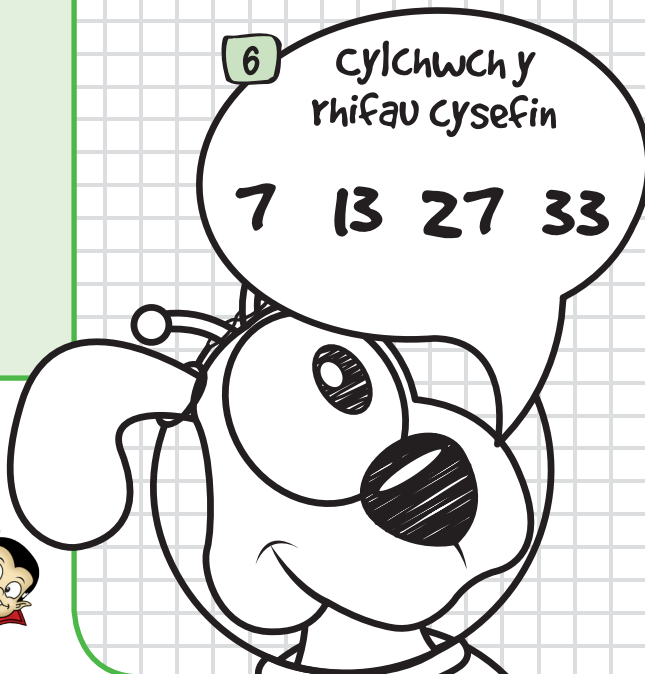
$$\begin{array}{r} 3268 \\ + 85 \\ \hline \end{array}$$

9

$$\begin{array}{r} 43752 \\ - 29268 \\ \hline \end{array}$$

10

$$4 \overline{)75}$$






Enw:

Dosbarth:

Dyddiad:

1 $9 \times 0.05 =$

2 Talgrynnwch i'r
10,000 agosaf
8,319,564



4 $\begin{array}{r} -3 \\ -8 \end{array}$ y bwlch yw

5 $10 - \quad = 1.79$

6 cylchuwch y
rhifau cysefin

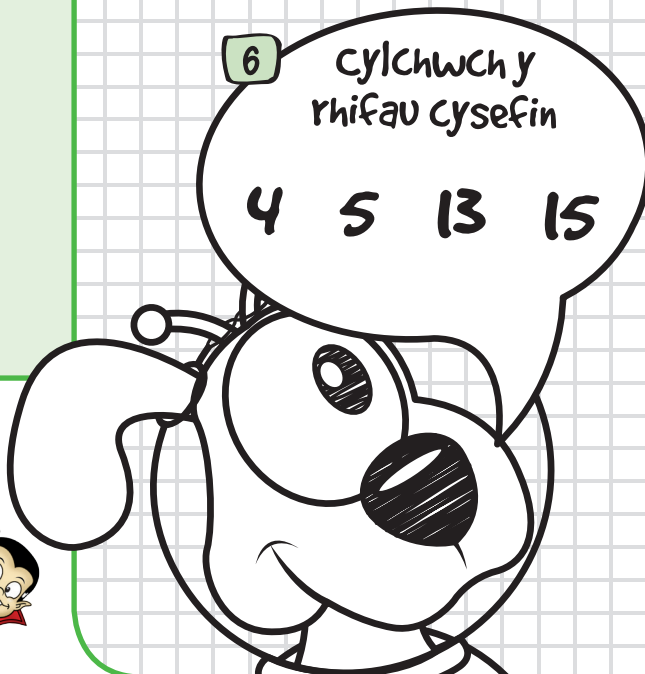
4 5 13 15

7 $831 - 437 =$

8 $\begin{array}{r} 2879 \\ + 465 \\ \hline \end{array}$

9 $\begin{array}{r} 81429 \\ - 14653 \\ \hline \end{array}$

10 $6 \overline{)807}$






Enw:

Dosbarth:

Dyddiad:

1 $8 \times 0.04 =$

2 Talgrynnwch i'r
1,000 agosaf
36,493



4 -5 -9 y bwlch yw

5 $1 - = 0.45$


6 cylchwch y
rhifau cysefin
8 17 28 37

7 $628 - 235 =$

8 $8567 + 638$

9 $72380 - 16198$

10 $9 \overline{)471}$






Enw:

Dosbarth:

Dyddiad:

1 $5 \times 0.07 =$

2 Talgrynnwch i'r
100 agosaf
614,287



4

| | |
|----|------------|
| -4 | y bwlch yw |
| -7 | |

5 $56.8 + \quad = 100$

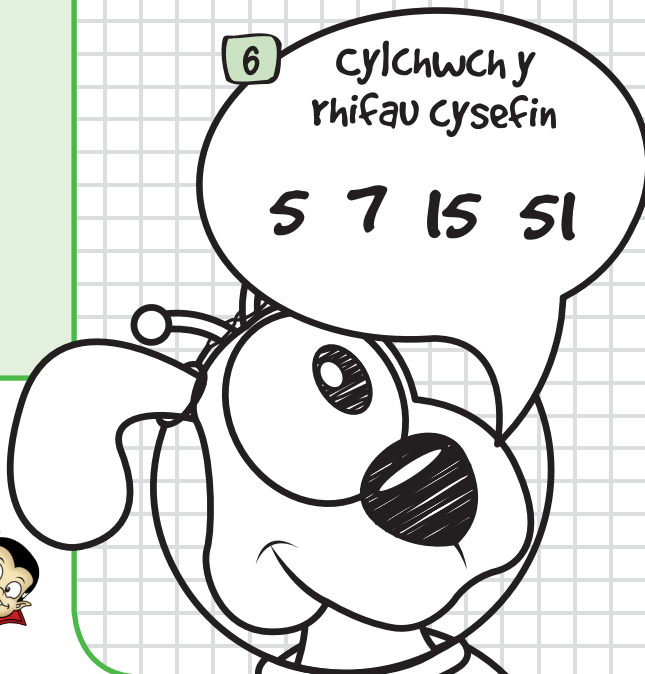
6 cylchwch y
rhifau cysefin
5 7 15 51

7 $482 - 149 =$

8
$$\begin{array}{r} 5194 \\ + 967 \\ \hline \end{array}$$

9
$$\begin{array}{r} 56347 \\ - 23869 \\ \hline \end{array}$$

10
$$7 \overline{)528}$$






Enw:

Dosbarth:

Dyddiad:

1 $6 \times 0.08 =$

2 Talgrynnwch i'r
100,000 agosaf
73,503,185

3 

| | | | | |
|------|------|------|--|------|
| -425 | -450 | -475 | | -525 |
|------|------|------|--|------|

4 $\begin{array}{r} -2 \\ -5 \end{array}$ y bwlch yw

5 $100 - = 15.6$

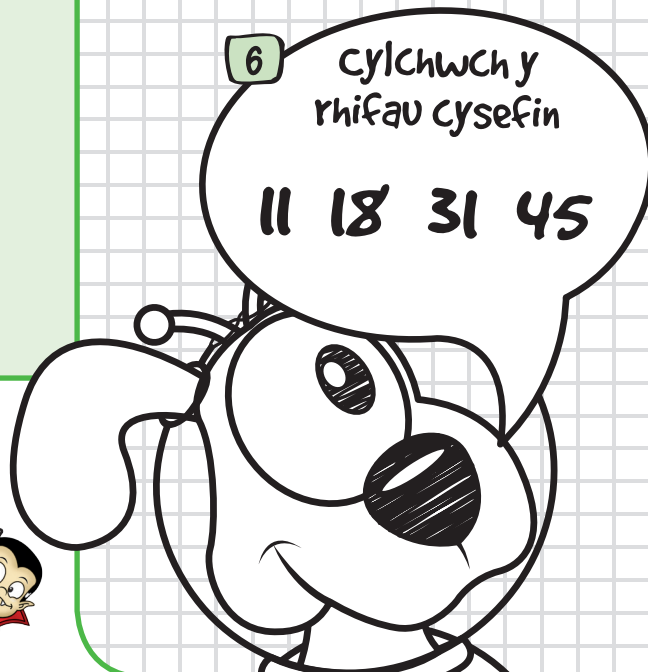
6 cylchwch y
rhifau cysefin
11 18 31 45

7 $567 - 218 =$

8 $\begin{array}{r} 4586 \\ + 718 \\ \hline \end{array}$

9 $\begin{array}{r} 62174 \\ - 13895 \\ \hline \end{array}$

10 $8 \overline{)667}$





Enw:

Dosbarth:

Dyddiad:

1 $9 \times 0.09 =$

2 Talgrynnwch i'r
1,000,00 agosaf
5,093,964

3

| | | | | |
|------|------|--|------|------|
| -575 | -600 | | -650 | -675 |
|------|------|--|------|------|

4 $\begin{array}{r} -3 \\ -9 \end{array}$ y bwlch yw

5 $10 = 4.19 +$

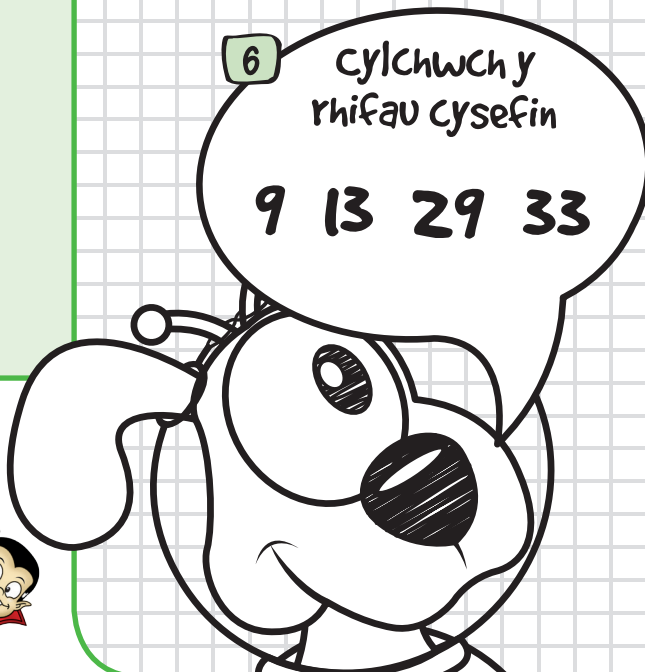
6 cylchwch y
rhifau cysefin
9 13 29 33

7 $775 - 438 =$

8 $\begin{array}{r} 6836 \\ + 386 \\ \hline \end{array}$

9 $\begin{array}{r} 92063 \\ - 15395 \\ \hline \end{array}$

10 $6 \overline{)452}$





Enw:

Dosbarth:

Dyddiad:

1 $8 \times 0.08 =$

2 Talgrynnwch i'r
1,000 agosaf
784,569

3

| | | | | |
|--|------|------|--|------|
| | -200 | -225 | | -275 |
|--|------|------|--|------|

4

| | |
|----|------------|
| -1 | y bwlch yw |
| -6 | |

5 $0.36 = 1 -$

6 cylchwch y
rhifau cysefin


7 23 32 49

7 $853 - 177 =$

8
$$\begin{array}{r} 7569 \\ + 673 \\ \hline \end{array}$$

9
$$\begin{array}{r} 76314 \\ - 28736 \\ \hline \end{array}$$

10
$$9 \overline{)759}$$



Enw:

Dosbarth:

Dyddiad:

1 Rhowch mewn trefn
1.444 1.71 1.6

2

$$\begin{array}{r} 4 \\ -10 \\ \hline \end{array}$$

y bwlch yw

3

$$8.67 + 9.8 =$$

4

$$5.6 - 3.75 =$$

5

$$6 \times 2.37 =$$

6

$$4.389$$

7

$$8.689 + 6.54 =$$

8

$$8.625 - 4.8 =$$

9

$$4.31 \times 1000 =$$

$$134.8 \div 1000 =$$

10

$$273 \div 13 =$$

Enw:

Dosbarth:

Dyddiad:

1 Rhowch mewn trefn
3.8 3.286 3.82

2

3 $\left[\begin{array}{l} y \\ bwllch\ yw \end{array} \right]$
-6

3 $4.36 + 5.9 =$

4 $8.4 - 5.84 =$

5 $3 \times 5.24 =$

6

2.615

/

7 $34.75 + 5.86 =$

8 $3.463 - 1.7 =$

9

$1.3 \times 1000 =$
 $1468 \div 1000 =$

10 $308 \div 14 =$



Enw:

Dosbarth:

Dyddiad:



CLIC 19

WS: 3

1 Rhowch mewn trefn
2.61 2.604 2.7

2 $\begin{array}{r} 5 \\ -7 \end{array}$ y
bwlch yw

3 $6.54 + 3.7 =$

4 $7.8 - 2.52 =$

5 $5 \times 4.68 =$

6 $\begin{array}{r} 5.437 \\ \diagup \quad \diagdown \quad \diagup \quad \diagdown \end{array}$

7 $4.928 + 12.63 =$

8 $5.718 - 2.84 =$

9 $0.75 \times 1000 =$
 $182 \div 1000 =$

10 $480 \div 16 =$

FY SGÔR DDIWETHAF?!

A LWYDDAIS I GURO CLIC?!

10

Enw:

Dosbarth:

Dyddiad:

1 Rhowch mewn trefn
 $4.057 \quad 4.7 \quad 4.57$

2 $\begin{array}{r} 7 \\ -4 \\ \hline \end{array}$ y bwlch yw

3 $7.85 + 4.6 =$

4 $6.37 - 4.6 =$

5 $4 \times 8.56 =$

6 6.572

7 $7.37 + 8.956 =$

8 $4.346 - 1.56 =$

9 $0.04 \times 1000 =$
 $12 \div 1000 =$

10 $396 \div 18 =$

Enw:

Dosbarth:

Dyddiad:

1 Rhowch mewn trefn
6.3 6.18 6.381

2

| | |
|----|----------------|
| 8 | y bwllch yw |
| -5 | |

3 $5.79 + 6.5 =$

4 $4.51 - 1.8 =$

5 $7 \times 1.85 =$

6

| | | | |
|---|---|---|---|
| 3 | 7 | 4 | 8 |
| / | / | / | / |

7 $9.536 + 4.88 =$

8 $13.4 - 6.83 =$

9

$0.006 \times 1000 =$

$5.8 \div 1000 =$

10 $1248 \div 24 =$

Enw:

Dosbarth:

Dyddiad:

1 Rhowch mewn trefn
5.86 5.6 5.876

2

$$\begin{array}{r} 9 \\ -3 \\ \hline \end{array}$$

y bwlch yw

3 $9.33 + 8.8 =$

4 $5.32 - 3.7 =$

5 $8 \times 3.43 =$

6

$$\begin{array}{cccc} 8 & 2 & 6 & 3 \\ \diagdown & \diagup & \diagdown & \diagup \\ & & & \end{array}$$

7 $13.6 + 5.74 =$

8 $42.3 - 7.56 =$

9

$$65.7 \times 1000 =$$

$$0.9 \div 1000 =$$

10 $800 \div 32 =$

Enw:

Dosbarth:

Dyddiad:

1 Rhowch mewn trefn
 $7.463 \quad 7.34 \quad 7.6$

2 10 -8 y bwlch yw

3 $8.53 + 7.8 =$

4 $3.7 - 1.645 =$

5 $4 \times 7.63 =$

6 7.194

7 $12468 + 9.8 =$

8 $6.4 - 3.176 =$

9 $24 \times 1000 =$
 $3.85 \div 1000 =$

10 $1872 \div 36 =$

Enw:

Dosbarth:

Dyddiad:

1 Rhowch mewn trefn
9.5 9.516 9.52

2 $\begin{array}{r} 2 \\ -10 \end{array}$ y bwlch yw

3 $4.86 + 8.5 =$

4 $5.4 - 3.784 =$

5 $6 \times 4.74 =$

6 1.956

7 $12468 + 9.8 =$

8 $6.4 - 3.176 =$

9 $138.4 \times 1000 =$
 $7 \div 1000 =$

10 $570 \div 19 =$

Enw:

Dosbarth:

Dyddiad:

1 Rhowch mewn trefn
8.07 8.162 8.1

2

$$\begin{array}{r} 4 \\ -6 \\ \hline \end{array}$$

y bwlch yw

3 $6.47 + 6.7 =$

4 $8.25 - 2.378 =$

5 $9 \times 8.52 =$

6

$$\begin{array}{c} 9.861 \\ \diagup \quad \diagdown \quad \diagup \quad \diagdown \end{array}$$

7 $185 + 8069 + 154 =$

8 $18.1 - 6.748 =$

9

$$3.7 \times 1000 =$$

$$95800 \div 1000 =$$

10 $2730 \div 26 =$

Enw:

Dosbarth:

Dyddiad:

1 Rhowch mewn trefn
3.465 3.4 3.45

2

$$\begin{array}{r} 8 \\ -9 \\ \hline \end{array}$$

y bwlch yw

3

$$7.75 + 9.3 =$$

4

$$7.68 - 3.546 =$$

5

$$8 \times 6.57 =$$

6

$$\begin{array}{c} 6.745 \\ \diagdown \quad \diagup \quad \diagdown \quad \diagup \\ \end{array}$$

7

$$273.82 + 75 + 6148 =$$

8

$$25.3 - 7.654 =$$

9

$$0.91 \times 1000 =$$

$$0.06 \div 1000 =$$

10

$$924 \div 42 =$$

Enw:

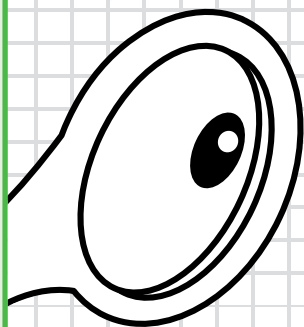
Dosbarth:

Dyddiad:

1 $8 \div \frac{2}{5} =$

2 **Pump chweched**
adio saith nawfed

3 Esboniwch pam bod
36% yn llai na $\frac{3}{8}$



4
Newidiwch $\frac{5}{8}$ i fod
yn ganran

5 Cynhyddwch (chwyddo)
£32 gyda 15%

6 Ysgrifennwch
ffracsiwn rhwng
 $\frac{1}{3}$ a $\frac{1}{2}$

7 Gostyngwch
(lleihau) 72m o 35%

8 Mae ryseit ar gyfer 6
pherson yn cynnwys 750ml o
sudd oren. Sawl millitr sydd eu
hangen ar gyfer 10 person?

9 Mae yna arwerthiant (sale) 30%. Talodd
fachgen £140 am gamera yn yr arwerthiant.
Beth oedd pris gwreiddiol y camera?

10 Defnyddiwch gymhareb
3:4:5 er mwyn rhannu 180



Enw:

Dosbarth:

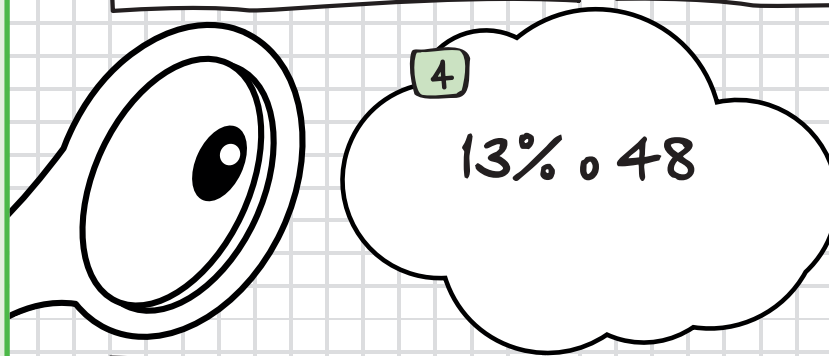
Dyddiad:

Heriau
PLATINWM
CLIC

1 $10 \div \frac{2}{3} =$

2 Un deg un
deuddegfed, tynnu
tri wythfed

3 Beth ydy 35%
o 48cg



4
13% o 48

5 Ychwanegwch 25% at 56cm

6 Ysgrifennwch
ffracsiwn rhwng
 $\frac{1}{4}$ a $\frac{1}{5}$

7 Tynnwch 10%
o £87

8 Mae ryseit ar gyfer 5
person yn cynnwys 450g
o flawd Sawl gram sydd angen ar
gyfer 8 person?

9 Mae yna arwerthiant (sale) 25%.
Talodd ferch £30 am bâr o jîns yn yr
arwerthiant. Beth oedd pris gwreiddiol y jîns?

10 Defnyddiwch gymhareb 1:2:4 er
mwyn rhannu £91

Enw:


Dosbarth:

Dyddiad:

1 $24 \times \frac{5}{8} =$

2 Saith undegchweched adio tri deuddegfed

3 Beth ydy 13% o 45ml?



4 Troswch 0.55 i fod yn ganran

5 Ychwanegwch 6% at £50

6 Sut fydddech chi'n mynd afi i droi unrhyw ffracsiwn i fod yn ganran?

7 Tynnwch 5% o 450m

8 Gallwn amcangyfri bod 5 milltir tua'r un pellter ag 8 cilomedr. Felly, pa bellter sydd tua'r un peth â 3 milltir?

9 Mae yna arwerthiant (sale) 10%. Mae Mark yn talu £450 am deledu newydd yn yr arwerthiant. Beth oedd pris gwreiddiol y teledu?

10 Os ydy cymhareb dosbarth yn 3:1, a fyddai 30 un union o ddisgyblion yn gallu bod yn y dosbarth? Pam

Enw:

Dosbarth:

Dyddiad:

1 $\frac{2}{3}$ o 8m =

2 Gweithiwch allan:
 $1\frac{3}{5} + 2\frac{3}{4}$

3 27% o 63m



5 Ychwanegwch 35% at 72cg

6 Pa un ydy'r agosaf at $\frac{1}{3}$? 0.3 neu 0.4? esboniwch

7 Tynnwch 1% o £98

8 Mae Mary'n talu £64 am ffôn symudol mewn arwerthiant. Roedd y ffôn yn £80 yn wreiddiol Beth ydy canran y gostyngiad gafodd hi?

9 Mae prisau tocynnau'n cael eu codi o £10%. Bellach, mae Ali'n talu £880 am ei docyn. Beth fyddai pris ei docyn cyn y codiad?

10 Cymhareb yr onglau mewn triongl ydy 6:5:7. Canfyddwch faint pob ongl.

Enw:

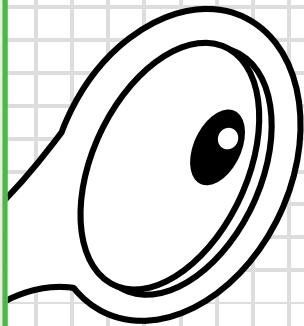
Dosbarth:

Dyddiad:

1 $12 \div \frac{3}{5} =$

2 $\frac{5}{6}$ **adio** $\frac{3}{5}$
tynnu $\frac{2}{3}$

3 Mae Ann yn dweud bod 48% o £56 yn £32.48. Esboniwrch pam ei bod hi'n anghywir.



4 Ysgrifennwch saith deuddegfed fel canran. Rhwch eich ateb at i lle degol.

5 Ychwanegwch 5% at 68cm

6 Gan ddechrau gydag un degfed = 0.1 = 10%, pa gyfwerthoedd eraill allwch ganfod?

7 Beth ydy'r ffordd cyflymaf o dynnu 5% o unrhyw rif?

8 Mae uchder planhigyn wedi cynhyddu 12cm o'r uchder gwreiddiol o 08cm. Beth ydy canran y cynnydd mewn uchder?

9 Mae gwerth car Ann 25% yn llai na'r hyn y talodd amdano ddwy flynedd yn ol. Bellach, ei werth yw £3600. Faint talodd hi am ei char yn y lle cyntaf?

10 Mae peth arian yn cael ei rannu rhwng John ac Ann gan ddefnyddio'r gymhareb 3:5. Mae John yn derbyn £24. Faint o arian y mae Ann yn ei dderbyn?



Enw:

Dosbarth:

Dyddiad:

Heriau
PLATINWM
CLIC

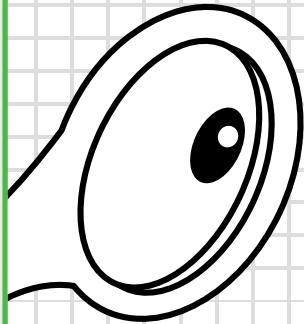
CLIC 20

WS: 6

1 Beth ydy
 $32 \times \frac{7}{8}$?

2 Esboniwch pam dydy
 $\frac{1}{3} + \frac{1}{2}$ ddim yr un
gwerth â $\frac{2}{5}$

3 Gweithiwch allan 98% o
£40. Oes ffordd cyflym o
wneud hyn?



4 Rhowch
mewn trefn: 64%, $\frac{2}{3}$,
0.7, $\frac{5}{8}$ gan ddechrau
gyda'r lleiaf

5 Ychwanegwch 55% at 88cg

6 Ysgrifennwch ganran
rhwng $\frac{2}{5}$ a 0.43

7 Tynnwch 25%
o £90

8 Wythnos ddiwethaf, sgoriodd
Imran 45 allan o 60 yn ei
brawf Mathemateg. Wythnos yma,
sgoriodd 54 allan o 60. Beth ydy
canran y cynnydd yn ei sgôr rhwng
y ddau brawf?

9 Mae prisau'n cael ei gostwng gan 5% -
am un diwrnod yn unig. Mae Paul yn Mrynu radio am
£38. Beth oedd pris y radio cyn y gostyngiad?

10 Mae £54 yn cael ei rannu rhwng Steven
ac Ali fel bod Ali'n derbyn dwbl swm arian
Steven. Faint mae Ali'n yn ei dderbyn felly?

Enw:

Dosbarth:

Dyddiad:

1 Beth ydy $\frac{5}{8}$ o 14cm?

2 Wyth nawfed tynnu pump chweched

3 Sull allwch chi ganfod $2\frac{1}{2}\%$ o unrhyw gyfanswm?

4 Pa un ydy'r agosaf at $\frac{2}{3}$? 0.6 neu 0.7. Sut ydych chi'n gwybod?

5 Ychwanegwch 0.5% at 500ml

6 Ysgrifennwch rif degol rhwng $\frac{1}{3}$ a 30%

7 Tynnwch 70% o 800ml

8 Mae Jenny'n tywallt 150ml o laeth o'r jwg gan adael 80% o'r laeth gwreiddiol yn y jwg. Faint o laeth oedd yn y jwg i ddechrau?

9 Mae fy mhwysau wedi codi o 80cg i 84cg. Beth ydy canran y cynnydd yn fy mhwysau?

10 Cymhareb y bechgyn a'r merched mewn dosbarth ydy 2:3. Pa ffracsiwn o'r dosbarth sy'n fechgyn?

Enw:

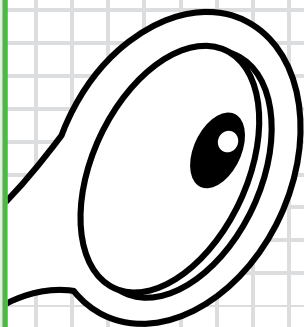
Dosbarth:

Dyddiad:

1 Sawl gwaith mae $\frac{3}{4}$ yn rhannu mewn i 12?

2 Beth ydy $4\frac{1}{4} - 1\frac{2}{3}$?

3 Ydy 30% o 42 yr un peth â 42% o 30? Esboniwch



4 Os ydy $\frac{3}{5}$ o x yn €90, beth ydy 5% o x?

5 Canfyddwch 105% o 420m

6 A fyddai'n well gennych gael $\frac{2}{5}$ neu $\frac{1}{2}$ $\frac{1}{2}$

7 Er mwyn lleihau rhif o 20%, mae Jake yn dweud bod rhaid ei lusoi gyda 0.8. Ydy Jake yn gywir? Esboniwch

8 Torrais 70cm o hyd y rhuban fel bod y rhuban yn 65% ei hyd gwreiddiol Beth oedd hyd gwreiddiol y rhuban?

9 Mae Jane yn prynu cluniadaur am £400 ac yn ei werthu ar ôl dwy flynedd am £240. Beth ydy canran ei cholled?

10 Rhannwch £4200 gan ddefnyddio cymhareb 1:2:3

Enw:

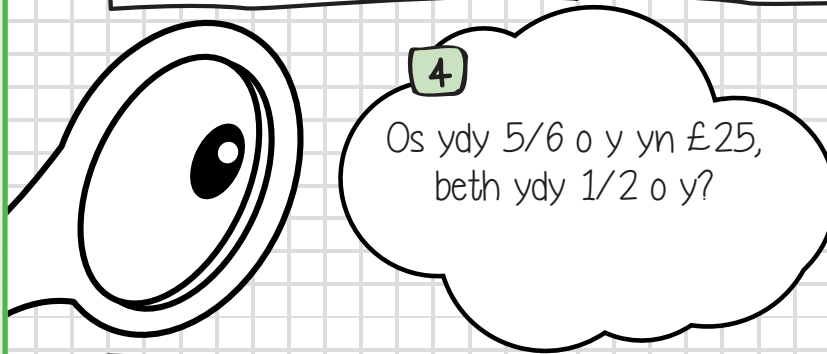
Dosbarth:

Dyddiad:

1 Beth ydy $\frac{3}{5}$ o 19cg?

2 Esboniwch pam bod ffracsiynau cyfwerth yn bwysig er mwyn adio a thynnu ffracsiynau?

3 Esboniwch sut i ddarganfod canran unrhyw rif. Pa rai sy'n hawdd? Pa rai sy'n anodd?



4 Os ydy $\frac{5}{6}$ o y yn £25, beth ydy $\frac{1}{2}$ o y?

5 Beth ydy 200% o 78ml?

6 Pa ffracsiwn sydd union hanner ffordd rhwng 0.4 a 48%?

7 Tynnwch $\frac{1}{4}$ o 43cg

8 Dros y tair blynedd diwethaf, mae nifer y disgyblion yn fy ysgol wedi cynhyddu o 600 i 630. Beth ydyd canran y cynnydd mewn nifer y disgyblion?

9 Mae siop lyfrau'n cynnig gostyngiad o 15% os ydych yn prynu mwy na dau lyfr. Mae Tim yn prynu 4 llyfr ac yn arbed £3. Faint byddai'r llyfrau wedi costio iddo heb y gostyngiad?

10 Caiff compost ei wneud gan ddefnyddio pridd, mawn a thywod gyda'r gymhareb 7:3:2. Mae garddwraig yn defnyddio 15litr o fawn er mwyn cynhyrchu ei chompost. Faint o bridd sydd angen arni?



Enw:

Dosbarth:

Dyddiad:

Heriau
PLATINWM
CLIC


CLIC 20

WS: 10

1 Mewn arolwg o 40 disgybl, dysgom fod $\frac{3}{8}$ yn hoffi pêl-fasged, $\frac{2}{5}$ yn hoffi pêl-dored a'r gweddill yn hoffi nofio. Sawl un oedd yn hoffi nofio?

2 Tynnwch $4\frac{2}{3}$
● $5\frac{1}{2}$

3 Yn ôl John, mae cynhyddu swm o 10% gan adio 10% yr un peth â chynhyddu swm o 20%. Ydy John yn gywir? Esboniwch



5 Ychwanegwch 1% at 75

6 Pa ffracsiwn sydd union hanner ffordd rhwng $\frac{3}{8}$ a 0.75?

7 Os ydw i'n cynhyddu n o 30%, rydw i'n cael 52. Beth yw gwerth n?

8 Mae perchennog siop yn gostwng ei brisau o 10%. Yr wythnos wedyn, mae'n codi ei brisau o 10%. Ydy'r prisau newydd yr un peth ag oedden nhw i ddechrau? Esboniwch

9 Mae Cheryl yn gwerthu ei beic am £45 ac yn gwneud colled o 70% ar yr arian y talodd hi'n wreiddiol. Beth oedd cost wreiddiol y beic?

10 Mae swm o arian yn cael ei rannu rhwng Sue a David fel bod Sue yn derbyn 50% yn fwy na David. Beth ydy cymhareb rhan David i ran Sue?



Contact us / Cysylltwch â ni:

Web: www.AndrellEducation.com

Email: info@AndrellEducation.com

Tel: +44 (0) 1924 229380

Fax: +44 (0) 1924 250412